

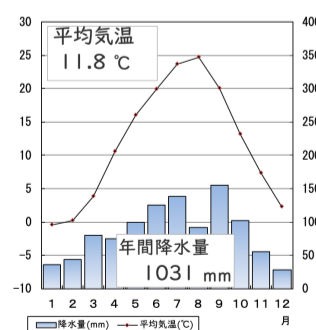
# 中部地方の特色

<input type="checkbox"/> 001 中部地方にはいくつの県があるか	☆☆☆☆☆	9つ
<input type="checkbox"/> 002 中部地方の日本海側を特に何というか	☆☆☆☆☆	北陸地方
<input type="checkbox"/> 003 中部地方内陸部の、山に囲まれた地域を特に何というか	☆☆☆☆☆	中央高地
<input type="checkbox"/> 004 中部地方の太平洋側を特に何というか	☆☆☆☆☆	東海地方
<input type="checkbox"/> 005 関東甲信越に含まれる中部地方の県はどこか	☆☆☆	山梨県・長野県・新潟県
<input type="checkbox"/> 006 中部地方で最も面積が大きい県はどこか	☆☆☆☆	長野県
<input type="checkbox"/> 007 中部地方で2番目に面積が大きい県はどこか	☆☆☆	新潟県
<input type="checkbox"/> 008 中部地方で3番目に面積が大きい県はどこか	☆☆	岐阜県
<input type="checkbox"/> 009 中部地方で最も面積が小さい県はどこか	☆☆	石川県
<input type="checkbox"/> 010 中部地方で最も人口が多い県はどこか	☆☆☆☆☆	愛知県
<input type="checkbox"/> 011 中部地方で2番目に人口が多い県はどこか	☆☆☆	静岡県
<input type="checkbox"/> 012 中部地方で3番目に人口が多い県はどこか	☆☆	新潟県
<input type="checkbox"/> 013 中部地方で最も人口が少ない県はどこか	☆☆☆☆	福井県
<input type="checkbox"/> 014 中部地方で2番目に人口が少ない県はどこか	☆☆	山梨県
<input type="checkbox"/> 015 日本の国土面積に対する中部地方全体の面積の割合として正しいものを選び 【10%、14%、18%、22%】	☆☆☆	18%

□016	日本の総人口に対する中部地方全体の人口の割合として正しいものを選び 【9%、14%、19%、24%】	☆☆	17%
□017	新潟県の県庁所在地はどこか	☆☆☆☆☆	新潟市
□018	石川県の県庁所在地はどこか	☆☆☆☆☆	金沢市
□019	富山県の県庁所在地はどこか	☆☆☆☆☆	富山市
□020	福井県の県庁所在地はどこか	☆☆☆☆☆	福井市
□021	山梨県の県庁所在地はどこか	☆☆☆☆☆	甲府市
□022	長野県の県庁所在地はどこか	☆☆☆☆☆	長野市
□023	岐阜県の県庁所在地はどこか	☆☆☆☆☆	岐阜市
□024	静岡県の県庁所在地はどこか	☆☆☆☆☆	静岡市
□025	愛知県の県庁所在地はどこか	☆☆☆☆☆	名古屋市
□026	静岡県で最も人口の多い市町村はどこか	☆☆☆☆	浜松市
□027	中部地方には政令指定都市がいくつあるか	☆☆☆☆	4つ
□028	中部地方の中央部にある3つの高い山脈をまとめて何というか	☆☆☆☆☆	日本アルプス
□029	新潟県と関東地方の境にある山脈は何か	☆☆☆☆	越後山脈
□030	山梨県・長野県と関東地方の境にある山脈は何か	☆☆☆	関東山地
□031	富山県から岐阜県にまたがる、別名「北アルプス」の山脈は何か	☆☆☆☆	飛騨山脈

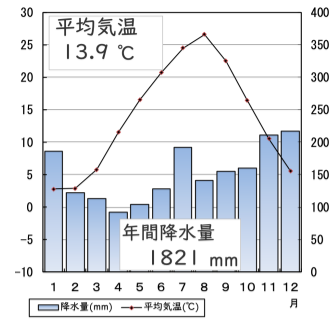
## 中部地方の特色

- 032 長野県南部にある、別名「中央アルプス」の山脈は何か  
☆☆☆☆ 木曾山脈
- 033 長野県東部から静岡県・山梨県にまたがる、別名「南アルプス」の山脈は何か  
☆☆☆☆ 赤石山脈
- 034 長野県から新潟県を流れる日本最長の河川は何か  
☆☆☆☆☆ 信濃川
- 035 甲府盆地から流れる日本三大急流の1つである川は何か  
☆☆☆ 富士川
- 036 静岡県内を南アルプスから牧ノ原台地へ流れる川は何か  
☆☆ 大井川
- 037 長野県の諏訪湖を水源に、静岡県の浜松へ流れる川は何か  
☆☆☆ 天竜川
- 038 濃尾平野に流れ込む木曾三川を、東から順に答えよ  
☆☆☆☆ 木曾川、長良川、揖斐川
- 039 中部地方最大の湖はどこか  
☆☆☆ 浜名湖
- 040 信濃川下流域にある、新潟県の平野は何か  
☆☆☆☆☆ 越後平野
- 041 扇状地が特徴的な、山梨県中央部の盆地は何か  
☆☆☆☆ 甲府盆地
- 042 木曾三川の下流域にある、岐阜県から愛知県、三重県にまたがる平野は何か  
☆☆☆ 濃尾平野
- 043 大井川の下流にある、茶の栽培がさかんな台地は何か  
☆☆☆ 牧ノ原(台地)
- 044 福井県のリアス海岸に面した湾は何か  
☆☆☆ 若狭湾
- 045 図の雨温図が示す都市を選べ  
【新潟、松本、浜松】



☆☆☆ 松本

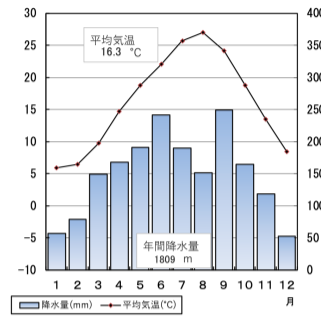
□046 図の雨温図が示す都市を選べ  
【新潟、松本、浜松】



☆☆☆

新潟

□047 図の雨温図が示す都市を選べ  
【新潟、松本、浜松】



☆☆☆

浜松

□048 図の都道府県名を答えよ



☆☆☆☆☆

新潟県

□049 図の都道府県名を答えよ



☆☆☆☆☆

石川県

□050 図の都道府県名を答えよ



☆☆☆☆

静岡県

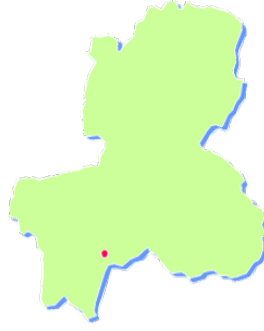
□051 図の都道府県名を答えよ



☆☆☆☆

富山県

□052 図の都道府県名を答えよ



☆☆☆☆

岐阜県

□053 図の都道府県名を答えよ



☆☆☆

愛知県

□054 図の都道府県名を答えよ



☆☆☆

福井県

□055 図の都道府県名を答えよ



☆☆☆

山梨県

□056 図の都道府県名を答えよ



☆☆☆

長野県

□057 図の県章は何県のものか



☆

新潟県

□058 図の県章は何県のものか



☆

静岡県

□059 図の県章は何県のものか



☆

石川県

□060 図の県章は何県のものか



☆

山梨県

□061 図の県章は何県のものか



☆

愛知県

□062 図の県章は何県のものか



☆

福井県

□063 図の県章は何県のものか



☆

長野県

□064 図の県章は何県のものか



☆

岐阜県



□065 図の県章は何県のものか

☆

富山県

□066 越後平野で水田に行われた土壌改良は何か

☆☆☆

暗きょ排水

□067 越後平野で生産がさかんなブランド米は何か

☆☆☆☆☆

コシヒカリ

□068 長野県で高原野菜の生産がさかんな地域はどこか

☆☆☆☆☆

野辺山原

□069 愛知県東部の渥美半島で生産される花は何か

☆☆

電照菊

□070 静岡県の牧ノ原台地でさかんに生産される工芸作物は何か

☆☆☆

茶

□071 愛知県西部の知多半島に引かれた用水路は何か

☆☆☆

愛知用水

□072 愛知県中央部の西三河地方に引かれた用水路は何か

☆☆☆

明治用水

□073 愛知県東部の渥美半島や静岡県西部に引かれた用水路は何か

☆☆☆

豊川用水

□074 濃尾平野に見られる堤防に囲まれた集落を何というか

☆☆☆

輪中

□075 長野県南部にある日本三大天然美林の1つは何か

☆☆☆

木曾ひのき

□076 静岡県西北部にある日本三大人工美林の1つは何か

☆☆

天竜すぎ

□077 生産額上位の都道府県が表のようになる農畜産物は何か

☆☆☆☆☆

キャベツ

□078 生産額上位の都道府県が表のようになる農畜産物は何か

	都道府県	全国に占める割合
1	長野	35.7%
2	茨城	15.3%
3	群馬	7.9%
4	長崎	5.8%
5	兵庫	4.9%

☆☆☆☆☆

レタス

## 中部地方の特色

079 生産額上位の都道府県が表のようになる農畜産物は何か

	都道府県	全国に占める割合
1	山梨	23.9%
2	長野	17.8%
3	山形	9.2%
4	岡山	8.8%
5	福岡	4.2%

☆☆☆☆☆

ぶどう

080 生産額上位の都道府県が表のようになる農畜産物は何か

	都道府県	全国に占める割合
1	青森	58.9%
2	長野	18.8%
3	岩手	6.3%
4	山形	5.5%
5	福島	3.4%

☆☆☆☆☆

りんご

081 生産額上位の都道府県が表のようになる農畜産物は何か

	都道府県	全国に占める割合
1	山梨	34.8%
2	福島	21.4%
3	長野	11.7%
4	山形	7.1%
5	和歌山	6.6%

☆☆☆☆☆

桃

082 まぐろやかつおの水揚げが多い、静岡県の漁港はどこか

☆☆☆☆☆

焼津港

083 浜名湖でさかんに養殖されている魚は何か

☆☆☆☆

うなぎ

084 愛知県を中心とした工業がさかんな地域を何というか

☆☆☆☆☆

中京工業地帯

085 静岡県を中心とした工業がさかんな地域を何というか

☆☆☆☆☆

東海工業地域

086 自動車工業のさかんな愛知県中央部の都市はどこか

☆☆☆☆☆

豊田

087 鉄鋼業のさかんな愛知県西部の都市はどこか

☆☆

東海

088 愛知県北部のよう業がさかんな都市はどこか

☆☆☆☆

瀬戸

089 岐阜県南部のよう業がさかんな都市はどこか

☆

多治見

090 東海工業地域の中心で、楽器とオートバイの生産がさかんな都市はどこか

☆☆☆☆☆

浜松

091 静岡県東部の製紙・パルプ工業がさかんな都市はどこか

☆☆☆☆

富士

092 諏訪湖畔の諏訪や岡谷でさかんな工業は何か

☆☆☆

精密機械工業・電気機械工業

093 めがね枠の生産で知られる福井県の都市はどこか

☆☆☆☆

鯖江

## 中部地方の特色



□094 洋食器の生産で知られる新潟県の都市はどこか	☆☆	燕
□095 刃物の生産で知られる新潟県の都市はどこか	☆☆	三条
□096 伝統的工芸品の加賀友禅が有名な都市はどこか	☆☆	金沢
□097 能登半島で生産されている伝統的工芸品の漆器は何か	☆☆	輪島塗
□098 富山県で江戸時代から伝統的にさかんな工業は何か	☆☆☆	製薬業
□099 北陸新幹線の終着駅（2020年現在）はどこか	☆☆☆	金沢
□100 北陸新幹線を運行する列車の愛称を「はくたか」「つるぎ」以外で答えよ	☆	かがやき
□101 愛知県常滑市の海上につくられた空港は何か	☆☆☆	中部国際空港
□102 東京と愛知県の小牧を結ぶ自動車道は何か	☆☆☆☆	東名高速道路
□103 2027年開業予定の東京と名古屋を結ぶ交通機関は何か	☆☆☆	リニア中央新幹線

## 中部地方の特色 解答

001	9つ	中部地方には新潟、富山、石川、福井、山梨、長野、岐阜、静岡、愛知の9県が含まれる
002	北陸地方	新潟・富山・石川・福井の4県を北陸地方という
003	中央高地	山梨・長野・岐阜の3県を中央高地という
004	東海地方	静岡・愛知に近畿地方の三重県を加えた3県を東海地方という
005	山梨県・長野県・新潟県	山梨県（甲斐国）・長野県（信濃国）・新潟県（越後国）は甲信越とよばれる
006	長野県	中部地方では長野県の面積が最大で、全国でも4番目に大きい
007	新潟県	中部地方では新潟県が長野県に次いで広く、全国でも5番目に大きい
008	岐阜県	岐阜県は中部地方で3番目に広く、全国でも7番目に大きい
009	石川県	中部地方で最も面積が小さいのは石川県
010	愛知県	愛知県の人口は755万人で、全国でも4番目に多い
011	静岡県	静岡県の人口は364万人で、全国で10番目に多い
012	新潟県	中部地方で3番目に人口が多いのは新潟県で、次いで長野・岐阜・石川・富山の順に多い
013	福井県	福井県の人口は77万人で、全国で5番目に少ない
014	山梨県	山梨県の人口は81万人で、全国区で6番目に少ない
015	18%	中部地方9県の面積の合計は66800平方kmで、日本の国土面積の18%を占める

016	17%	中部地方9県の人口の合計は約2100万人で、日本の総人口の17%を占める
017	新潟市	新潟県の県庁所在地は新潟市である
018	金沢市	石川県の県庁所在地は金沢市である
019	富山市	富山県の県庁所在地は富山市である
020	福井市	福井県の県庁所在地は福井市である
021	甲府市	山梨県の県庁所在地は甲府市である
022	長野市	長野県の県庁所在地は長野市である
023	岐阜市	岐阜県の県庁所在地は岐阜市である
024	静岡市	静岡県の県庁所在地は静岡市である
025	名古屋市	愛知県の県庁所在地は名古屋市である
026	浜松市	静岡県は県庁所在地の静岡市より浜松市のほうが人口が多い
027	4つ	名古屋市、浜松市、静岡市、新潟市の4つが政令指定都市である
028	日本アルプス	飛騨山脈、木曾山脈、赤石山脈を合わせて日本アルプスという
029	越後山脈	新潟県南部と関東地方の境目に越後山脈がある
030	関東山地	長野県・山梨県東部と関東地方の境目に関東山地がある
031	飛騨山脈	富山から岐阜にまたがる飛騨山脈を北アルプスという

032	木曾山脈	長野県にある木曾山脈を中央アルプスという
033	赤石山脈	長野から静岡・山梨にまたがる赤石山脈を南アルプスという
034	信濃川	信濃川は上流部の長野県内では千曲川と呼ばれ、新潟県内では信濃川と呼ばれる
035	富士川	富士川は甲府盆地から静岡県の富士市へ流れ、日本三大急流の1つに数えられる
036	大井川	大井川は江戸時代に橋が架けられず、東海道の難所であった
037	天竜川	天竜川は諏訪湖を水源とする、日本で9番目に長い川
038	木曾川、長良川、揖斐川	木曾三川が集まる濃尾平野では、水害を防ぐために輪中がつくられた
039	浜名湖	静岡県の浜名湖は汽水湖で、中部地方最大の湖面面積を持つ
040	越後平野	信濃川は新潟県の越後平野で日本海に注ぐ
041	甲府盆地	甲府盆地には富士川が流れ、扇状地を形成している
042	濃尾平野	木曾三川が集まる濃尾平野では、水害を防ぐために輪中がつくられた
043	牧ノ原（台地）	大井川下流の牧ノ原では茶の栽培がさかん
044	若狭湾	福井県の若狭湾沿岸はリアス海岸になっている
045	松本	年間を通じて少雨で涼しく、中央高地の松本の気候を示している
046	新潟	冬に降雪が多く、北陸地方の新潟の気候を示す
047	浜松	年間を通じて温暖で、梅雨や台風の影響が大きい太平洋岸の浜松の気候を示す

048	新潟県	新潟県は東西に細長く、日本海には佐渡島が浮かぶ
049	石川県	石川県は南北に細長く、能登半島が突き出ている
050	静岡県	静岡県は中央が細く、東部は伊豆半島になっている
051	富山県	富山県はリボンのような形状をしている
052	岐阜県	岐阜県は北部より南部が東西に幅広くなっている
053	愛知県	愛知県の西部からは知多半島、東部からは渥美半島が突き出る
054	福井県	福井県の西部は若狭湾に面し、リアス海岸になっている
055	山梨県	山梨県の南部は富士山を囲むようにへこんでいる
056	長野県	長野県は8つの県と接し、接する県が最も多い
057	新潟県	新潟県の「ガ」「タ」の字がデザインされている
058	静岡県	静岡県の富士山をデザインしている
059	石川県	石川県の形がデザインされている
060	山梨県	山梨県の山をイメージしたもの
061	愛知県	ひらがなで「あ」「い」「ち」がデザインされている
062	福井県	カタカナで「フ」「ク」「イ」がデザインされている
063	長野県	長野県の「ナ」がデザインされている

064	岐阜県	岐阜県の「岐」の字がデザインされている
065	富山県	富山県の「と」の字がデザインされている
066	暗きょ排水	越後平野は暗きょ排水で湿田を乾田に変え、稲作の機械化を進めた
067	コシヒカリ	新潟を中心に北陸地方ではコシヒカリがさかんに生産されている
068	野辺山原	ハヶ岳山麓の野辺山原ではレタスなどの高原野菜がさかんに生産されている
069	電照菊	愛知県東部の渥美半島では電照菊が生産されている
070	茶	大井川下流の牧ノ原では茶の栽培がさかん
071	愛知用水	知多半島には木曾川から愛知用水が引かれている
072	明治用水	西三河地方には矢作川から明治用水が引かれている
073	豊川用水	渥美半島には豊川・天竜川から豊川用水が引かれている
074	輪中	木曾三川が集まる濃尾平野では、水害を防ぐために輪中がつくられた
075	木曾ひのき	長野県の木曾ひのきは天然三大美林の1つに数えられる
076	天竜すぎ	静岡県の天竜すぎは人工三大美林の1つに数えられる
077	キャベツ	キャベツの生産は群馬が1位で、愛知が2位
078	レタス	レタスの生産は長野県の野辺山原でさかん
079	ぶどう	山梨県・長野県ではぶどうの生産がさかん

080	りんご	長野県のりんごの生産は青森県に次いで2位
081	桃	桃の生産は山梨県が全国一で、2位が福島県
082	焼津港	焼津港は遠洋漁港の基地で、まぐろの水揚げで有名
083	うなぎ	静岡県の浜名湖ではうなぎの養殖がさかん
084	中京工業地帯	愛知県を中心とした中京工業地帯は日本一の工業地帯
085	東海工業地域	静岡県の浜松を中心に東海工業地域が広がる
086	豊田	愛知県豊田市はトヨタ自動車の企業城下町で、自動車工業がさかん
087	東海	愛知県東海市は鉄鋼業がさかん
088	瀬戸	愛知県瀬戸市はよう業がさかんで、「瀬戸物」の語源となった
089	多治見	岐阜県多治見市はよう業がさかんで、ファインセラミックスの生産を行っている
090	浜松	静岡県浜松市はヤマハの企業城下町で、楽器とオートバイの生産がさかん
091	富士	静岡県富士市は製紙・パルプ工業がさかん
092	精密機械工業・電気機械工業	諏訪・岡谷はかつては製糸業で栄え、現在は精密機械工業・電気機械工業がさかん
093	鯖江	福井県の鯖江市はめがね枠の生産で知られる
094	燕	新潟県の燕市は洋食器の生産で知られる
095	三条	新潟県の三条市は刃物の生産で知られる

096	金沢	加賀友禅は金沢の伝統的工芸品
097	輪島塗	能登半島の輪島市では伝統的工芸品の輪島塗が生産されている
098	製薬業	富山の薬売りの伝統があり、製薬業がさかん
099	金沢	北陸新幹線は2023年に福井県の敦賀まで延伸予定
100	かがやき	北陸新幹線には「かがやき」号が運行している
101	中部国際空港	中部国際空港は人工島に建設され、セントレアともいう
102	東名高速道路	東名高速は東海道の物流の中心で、第二東名道路も建設された
103	リニア中央新幹線	リニア中央新幹線は山梨から長野を經由して建設されている