

# 中国・四国地方の特色

□001 中国・四国地方にはいくつの県があるか	☆☆☆☆☆	9つ
□002 中国地方の日本海側を特に何というか	☆☆☆☆☆	山陰地方
□003 中国地方の太平洋側を特に何というか	☆☆☆☆☆	山陽地方
□004 岡山・広島・山口・香川・愛媛の5県をまとめて何というか	☆☆☆☆☆	瀬戸内地方
□005 中国地方で最も面積が大きい県はどこか	☆☆☆	広島県
□006 四国地方で最も面積が大きい県はどこか	☆☆☆	高知県
□007 中国地方で最も面積が小さい県はどこか	☆☆	鳥取県
□008 四国地方で最も面積が小さい県はどこか	☆☆☆☆☆	香川県
□009 中国地方で最も人口が多い県はどこか	☆☆☆☆☆	広島県
□010 四国地方で最も人口が多い県はどこか	☆☆☆	愛媛県
□011 中国地方で最も人口が少ない県はどこか	☆☆☆☆☆	鳥取県
□012 中国地方で2番目に人口が少ない県はどこか	☆☆☆☆	島根県
□013 四国地方で最も人口が少ない県はどこか	☆☆☆☆	高知県
□014 日本の国土面積に対する中国地方全体の面積の割合として正しいものを選べ 【5%、8%、11%、14%】	☆☆	8%
□015 日本の総人口に対する中国地方全体の人口の割合として正しいものを選べ 【6%、9%、12%、15%】	☆☆	6%

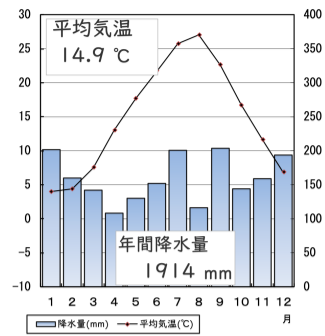
<input type="checkbox"/> 016	日本の国土面積に対する四国地方全体の面積の割合として正しいものを選べ 【2%、5%、8%、11%】	☆☆	5%
<input type="checkbox"/> 017	日本の総人口に対する四国地方全体の人口の割合として正しいものを選べ 【3%、6%、9%、12%】	☆☆	3%
<input type="checkbox"/> 018	岡山県の県庁所在地はどこか	☆☆☆☆☆	岡山市
<input type="checkbox"/> 019	広島県の県庁所在地はどこか	☆☆☆☆☆	広島市
<input type="checkbox"/> 020	鳥取県の県庁所在地はどこか	☆☆☆☆☆	鳥取市
<input type="checkbox"/> 021	島根県の県庁所在地はどこか	☆☆☆☆☆	松江市
<input type="checkbox"/> 022	山口県の県庁所在地はどこか	☆☆☆☆☆	山口市
<input type="checkbox"/> 023	香川県の県庁所在地はどこか	☆☆☆☆☆	高松市
<input type="checkbox"/> 024	愛媛県の県庁所在地はどこか	☆☆☆☆☆	松山市
<input type="checkbox"/> 025	徳島県の県庁所在地はどこか	☆☆☆☆☆	徳島市
<input type="checkbox"/> 026	高知県の県庁所在地はどこか	☆☆☆☆☆	高知市
<input type="checkbox"/> 027	山口県で最も人口の多い市町村はどこか	☆☆☆	下関市
<input type="checkbox"/> 028	中国・四国地方には政令指定都市はいくつあるか	☆☆☆☆☆	2つ
<input type="checkbox"/> 029	中国地方を東西に横断する山脈は何か	☆☆☆☆☆	中国山地
<input type="checkbox"/> 030	四国地方を東西に横断する山脈は何か	☆☆☆☆☆	四国山地
<input type="checkbox"/> 031	伯耆富士、出雲富士の異名を持つ中国地方で最も高い山は何か	☆☆☆	大山

## 中国・四国地方の特色

- 032 四国で最も標高の高い山を答えよ  
☆ 石鎚山
- 033 石灰岩が雨水などによって溶かされた地形を何というか  
☆☆☆☆☆ カルスト地形
- 034 山口県中央部にある石灰岩でできた台地は何か  
☆☆☆ 秋吉台
- 035 鳥取平野の海沿いにある独特な地形は何か  
☆☆☆☆ 鳥取砂丘
- 036 岡山平野を流れ、倉敷市で瀬戸内海に注ぐ川は何か  
☆ 高梁川
- 037 広島平野に三角州をつくる川は何か  
☆☆☆ 太田川
- 038 中国地方最長の河川は何か  
☆☆ 江の川
- 039 日本三大暴れ川の一つに数えられる四国の河川は何か  
☆☆☆☆ 吉野川
- 040 日本最後の清流ともいわれる、四国最長の川は何か  
☆☆☆ 四万十川
- 041 愛媛県の西岸にあるリアス海岸に面した海は何か  
☆☆☆ 宇和海
- 042 香川県の瀬戸内海沿岸に広がる四国最大の平野は何か  
☆☆☆☆ 讃岐平野
- 043 島根県の日本海沿岸に広がる山陰地方最大級の平野は何か  
☆☆ 出雲平野
- 044 太田川河口に広がる平野は何か  
☆☆ 広島平野太田川河口の
- 045 吉野川河口に広がる平野は何か  
☆☆ 徳島平野
- 046 中国地方最大で、全国でも5番目に大きい湖はどこか  
☆☆☆ 中海
- 047 島根県にある、全国で7番目に大きい汽水湖は何か  
☆☆ 宍道湖

## 中国・四国地方の特色

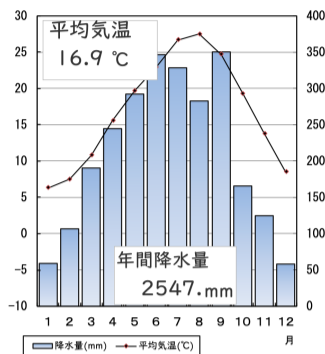
□048 図の雨温図はどの都市のものか選べ<br>【鳥取、高松、高知】



☆☆☆☆☆

鳥取市

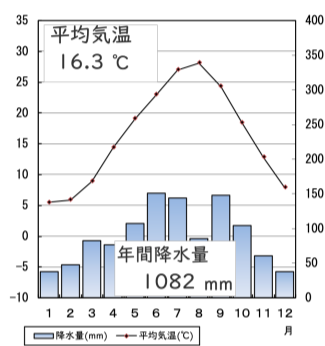
□049 図の雨温図はどの都市のものか選べ<br>【鳥取、高松、高知】



☆☆☆☆☆

高知市

□050 図の雨温図はどの都市のものか選べ<br>【鳥取、高松、高知】



☆☆☆☆☆

高松市

□051 図の都道府県名を答えよ



☆☆☆☆☆

島根県

□052 図の都道府県名を答えよ



☆☆☆☆☆

愛媛県

□053 図の都道府県名を答えよ



☆☆☆☆

香川県

□054 図の都道府県名を答えよ



☆☆☆☆

高知県

□055 図の都道府県名を答えよ



☆☆

徳島県

□056 図の都道府県名を答えよ



☆☆

山口県

□057 図の都道府県名を答えよ



☆☆

広島県

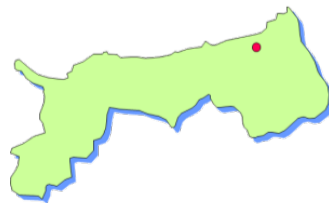
□058 図の都道府県名を答えよ



☆☆

岡山県

□059 図の都道府県名を答えよ



☆☆

鳥取県

□060 図の県章は何県のものか



☆

鳥取県

□061 図の県章は何県のものか



☆

島根県

□062 図の県章は何県のものか



☆

岡山県

□063 図の県章は何県のものか



☆

広島県

□064 図の県章は何県のものか



☆

山口県

□065 図の県章は何県のものか



☆

徳島県

□066 図の県章は何県のものか



☆

香川県

□067 図の県章は何県のものか



☆

愛媛県

□068 図の県章は何県のものか



☆

高知県

□069 ビニルハウスを利用した野菜の早作りを何というか

☆☆☆☆☆

促成栽培

□070 鳥取平野や砂丘周辺で栽培される、鳥取県の生産量が全国一の野菜は何か

☆☆

らっきょう

□071 日本で最初にオリーブを栽培したのはどこか

☆☆

小豆島

□072 愛媛県に多く見られる、傾斜地の果樹園を何というか

☆☆

段々畑

□073 干害を防ぐために讃岐平野に多くつくられてきたものは何か

☆☆☆

ため池

□074 吉野川から讃岐平野に引かれた用水路は何か

☆☆☆☆

香川用水

□075 生産額上位の都道府県が表のようになる農畜産物は何か

	都道府県	全国に占める割合
1	高知	13.1%
2	熊本	10.6%
3	群馬	8.6%
4	福岡	7.0%
5	茨城	5.5%

☆☆☆☆☆

なす

□076 生産額上位の都道府県が表のようになる農畜産物は何か

	都道府県	全国に占める割合
1	山梨	23.9%
2	長野	17.8%
3	山形	9.2%
4	岡山	8.8%
5	福岡	4.2%

☆☆☆

ぶどう

□077 生産額上位の都道府県が表のようになる農畜産物は何か

	都道府県	全国に占める割合
1	和歌山	20.1%
2	静岡	14.8%
3	愛媛	14.7%
4	熊本	11.7%
5	長崎	6.4%

☆☆☆☆☆

みかん

□078 生産額上位の都道府県が表のようになる農畜産物は何か

	都道府県	全国に占める割合
1	千葉	13.1%
2	茨城	10.3%
3	栃木	8.8%
4	福島	7.4%
5	鳥取	6.9%

☆☆☆

なし

□079 宇和海沿岸でさかんに養殖されているものは何か	☆☆☆☆	真珠
□080 広島湾でさかんに養殖されているものは何か	☆☆☆	かき
□081 しじみの漁獲で有名な湖はどこか	☆☆☆☆	宍道湖
□082 鳥取県にある、日本海側では水揚げ量が最大の漁港はどこか	☆☆☆☆	境港
□083 瀬戸内海でたびたび発生した、プランクトンの大量発生による水質汚染は何か	☆☆	赤潮
□084 岡山・広島・山口・香川・愛媛の5県にまたがる工業がさかんな地域を何というか	☆☆☆☆☆	瀬戸内工業地域
□085 石油化学コンビナートがある岡山県の都市はどこか	☆☆☆☆☆	倉敷市
□086 石油化学コンビナートがある山口県の都市はどこか	☆☆☆	周南市
□087 造船業の出荷額が全国一の香川県の都市はどこか	☆☆☆	坂出市
□088 鉄鋼業がさかんな広島県東部の都市はどこか	☆☆☆	福山市
□089 鉄鋼業・造船業がさかんな広島県中央部の都市はどこか	☆☆☆☆	呉市
□090 広島市や府中町でさかんな工業は何か	☆☆☆	自動車工業
□091 セメントの生産がさかんな山口県の都市はどこか	☆☆☆	宇部市
□092 タオルの生産が全国一の愛媛県の都市はどこか	☆☆☆	今治市
□093 うちわの生産が全国一の香川県の都市はどこか	☆☆	丸亀市
□094 岡山県の伝統的工芸品として知られる陶磁器は何か	☆☆	備前焼

## 中国・四国地方の特色



□095	山口県の伝統的工芸品として知られる陶磁器は何か	☆	萩焼
□096	筆の生産量が全国一の広島県で生産される筆を何というか	☆☆	熊野筆
□097	本州と四国を結ぶ運輸施設のうち、東側のルート of 名称は何か	☆☆☆☆	神戸・鳴門ルート (明石海峡大橋+大鳴門橋)
□098	本州と四国を結ぶ運輸施設のうち、中央のルート of 名称は何か	☆☆☆☆	児島・坂出ルート (瀬戸大橋)
□099	本州と四国を結ぶ運輸施設のうち、西側のルート of 名称は何か	☆☆☆☆	尾道・今治ルート (因島大橋+来島海峡大橋)
□100	本州と四国を結ぶ本四架橋のうち、鉄道が運行する橋は何か	☆☆☆☆☆	瀬戸大橋
□101	本四架橋尾道・今治ルートの別名は何か	☆☆☆	瀬戸内しまなみ海道
□102	岡山県にある日本三名園の1つは何か	☆☆☆☆	後楽園
□103	広島県にある日本三景の1つは何か	☆☆☆☆	宮島
□104	島根県にある世界遺産は何か	☆☆☆	石見銀山
□105	明治日本の産業革命遺産として世界遺産登録された松下村塾などがあるのはどこか	☆☆	萩
□106	広島県にある2つの世界遺産は何か	☆☆☆☆☆	原爆ドーム、厳島神社

## 中国・四国地方の特色 解答

001	9つ	中国・四国地方には岡山・広島・鳥取・島根・山口・香川・愛媛・徳島・高知の9県がある
002	山陰地方	中国地方の日本海側を山陰地方という
003	山陽地方	中国地方の太平洋側を山陽地方という
004	瀬戸内地方	瀬戸内海に面した5県を瀬戸内地方という
005	広島県	中国地方で最も面積が大きいのは広島県で、次いで岡山、島根、山口の順
006	高知県	四国地方で最も面積が大きいのは高知県で、次いで愛媛、徳島の順
007	鳥取県	中国地方で最も面積が小さいのは鳥取県
008	香川県	四国地方で最も面積が小さいのは香川県で、全国でも最も小さい
009	広島県	中国地方で最も人口が多いのは広島県（281万人）で、次いで岡山、山口の順
010	愛媛県	四国地方で最も人口が多いのは愛媛県（134万人）で、次いで香川、徳島の順
011	鳥取県	中国地方で最も人口が少ないのは鳥取県で、全国でも最少
012	島根県	中国地方で2番目に人口が少ないのは島根県で、全国でも鳥取に次いで2番目に少ない
013	高知県	四国地方で最も人口が少ないのは高知県で、全国でも3番目に少ない
014	8%	中国5県の面積の合計は31900平方kmで、日本の国土面積のおよそ8%
015	6%	中国地方5県の人口の合計は約730万人で、日本の総人口の6%ほど

016	5%	四国4県の面積の合計は18800平方kmで、日本の国土面積のおよそ5%
017	3%	四国地方4県の人口の合計は約730万人で、日本の総人口の6%ほど
018	岡山市	岡山県の県庁所在地は岡山市である
019	広島市	広島県の県庁所在地は広島市である
020	鳥取市	鳥取県の県庁所在地は鳥取市である
021	松江市	島根県の県庁所在地は松江市である
022	山口市	山口県の県庁所在地は山口市である
023	高松市	香川県の県庁所在地は高松市である
024	松山市	愛媛県の県庁所在地は松山市である
025	徳島市	徳島県の県庁所在地は徳島市である
026	高知市	高知県の県庁所在地は高知市である
027	下関市	山口県は県庁所在地の山口市より下関市のほうが人口が多い
028	2つ	広島市と岡山市が政令指定都市になっている
029	中国山地	なだらかな中国山地が中国地方を横断する
030	四国山地	険しい四国山地が四国地方を横断する
031	大山	鳥取県の大山（1729m）が中国地方で最も高い山

032	石鎚山	四国山地の西端部にある愛媛県の石鎚山は標高1982mで、四国のみならず西日本の最高峰になる
033	カルスト地形	石灰岩が雨水などによって溶かされた地形をカルスト地形という
034	秋吉台	秋吉台は日本最大級のカルスト地形で、秋芳洞など多くの鍾乳洞がある
035	鳥取砂丘	鳥取砂丘は日本最大級の砂丘として知られる
036	高梁川	高梁川の河口（水島地区）に石油化学コンビナートが建設された
037	太田川	太田川河口の三角州に広島市街が形成されている
038	江の川	江の川は中国地方最長の河川で、中国山地を越えて島根県江津市で日本海に注ぐ
039	吉野川	吉野川は「四国三郎」といわれ、徳島平野に注ぐ
040	四万十川	四国最長の河川は吉野川（四国で2番目に長い）ではなく、高知県を流れる四万十川である
041	宇和海	四国と九州を隔てる豊後水道の四国側を宇和海という
042	讃岐平野	瀬戸内海沿岸の高松平野や丸亀平野を合わせて讃岐平野という
043	出雲平野	島根県に広がる出雲平野は山陰地方最大の平野
044	広島平野太田川河口の	太田川河口の三角州に広島市街が形成されている
045	徳島平野	吉野川は「四国三郎」といわれ、徳島平野に注ぐ
046	中海	鳥取県・島根県にまたがる中海は汽水湖で、西日本最大の湖
047	宍道湖	島根県の宍道湖は中海に連結する汽水湖で、日本で7番目に大きい

048	鳥取市	冬の降水量が多いので山陰地方の気候、鳥取市とわかる
049	高知市	夏が多雨なので太平洋岸の気候、高知市とわかる
050	高松市	年間を通じて温暖で少雨なので瀬戸内の気候、高松市とわかる
051	島根県	島根県は東西に細長く、日本海には隠岐島が浮かぶ
052	愛媛県	愛媛県の西岸は佐田岬半島が突き出し、リアス海岸になっている
053	香川県	香川県は瀬戸内海の小島が多く、最大のものは小豆島
054	高知県	高知県は中央部が土佐湾によってへこんでいる
055	徳島県	徳島県の形状には特徴がない
056	山口県	山口県は東西に長い長方形で、瀬戸内海に小島が多い
057	広島県	広島県は瀬戸内海の小島が多く、広島湾の一番内側に広島市街がある
058	岡山県	岡山県は円形に近い形状をしている
059	鳥取県	鳥取県は東西に細長く、北西に境港が突き出す
060	鳥取県	鳥取県の鳥をイメージしている
061	島根県	「マ」が4つで島根の「シマ」を表す
062	岡山県	岡山県の「岡」の字をイメージしている
063	広島県	広島県の「ヒ」の字をイメージしている

064	山口県	山口県の「山」「口」の字をイメージしている
065	徳島県	徳島県の「と」「く」の字をイメージしている
066	香川県	香川県の「カ」の字をイメージしている
067	愛媛県	愛媛県特産のみかんの花をデザインしている
068	高知県	高知県の旧国名土佐国の「ト」「サ」をデザインしている
069	促成栽培	ビニルハウスを利用して夏野菜を冬・春につくることを促成栽培という
070	らっきょう	鳥取県はらっきょうの生産量が全国一
071	小豆島	香川県の小豆島は日本で最初にオリーブを栽培した
072	段々畑	愛媛県では段々畑を利用したみかんやキウイフルーツの栽培がさかん
073	ため池	雨の少ない讃岐平野で農業を行うため、ため池がつくられてきた
074	香川用水	讃岐平野には吉野川から香川用水が引かれている
075	なす	なすの生産は高知県が全国一で、高知平野での促成栽培がさかん
076	ぶどう	岡山ではマスカットの生産がさかんで、ぶどうの生産量が全国で4番目
077	みかん	愛媛県はみかんをはじめとしたかんきつ類の生産がさかん
078	なし	鳥取県では二十世紀なしの生産がさかん
079	真珠	愛媛県の宇和海沿岸では真珠の養殖がさかん

080	かき	広島湾ではかきの養殖がさかんで、全国一の生産量
081	宍道湖	汽水湖の宍道湖ではしじみの漁獲が多い
082	境港	境港の沖合には対馬海流が流れ、よい漁場となっている
083	赤潮	赤潮が発生すると養殖業が大きな被害を受ける
084	瀬戸内工業地域	瀬戸内工業地域では化学工業の割合が大きくなっている
085	倉敷市	倉敷市の水島地区には日本最大級の石油化学コンビナートがある
086	周南市	周南市には軍用地の跡地に建設された石油化学コンビナートがある
087	坂出市	坂出市には塩田の跡地に工業団地が建てられ、造船業がさかん
088	福山市	広島県東部の福山市は鉄鋼業がさかん
089	呉市	広島県中央部の呉市は海軍の拠点があった場所で、造船業と鉄鋼業がさかん
090	自動車工業	広島県府中町にはマツダ自動車の本社があり、自動車工業がさかん
091	宇部市	宇部市はカルスト地形の石灰岩を利用したセメント工業がさかん
092	今治市	愛媛県の今治市は高級タオルの生産で知られる
093	丸亀市	香川県の丸亀市は内輪の生産で知られる
094	備前焼	岡山県備前市周辺でつくられる備前焼は須恵器からの伝統を持つ陶磁器
095	萩焼	萩焼は山口県萩市周辺でつくられる伝統的工芸品

096	熊野筆	広島県安芸郡熊野町では日本の筆の80%以上を生産している
097	神戸・鳴門ルート（明石海峡大橋+大鳴門橋）	本州と四国を結ぶ3つのルートのうち、東側は神戸から淡路島を経由して徳島県に至る神戸・鳴門ルートである
098	児島・坂出ルート（瀬戸大橋）	本州と四国を結ぶ3つのルートのうち、中央は岡山県倉敷市児島から香川県の坂出市までの瀬戸大橋で、唯一の電車が走るルートである
099	尾道・今治ルート（因島大橋+来島海峡大橋）	本州と四国を結ぶ3つのルートのうち、西側は広島県尾道市から愛媛県の今治市までのを結ぶ「瀬戸内しまなみ海道」で、自転車で渡ることもできる
100	瀬戸大橋	児島・坂出ルートを結ぶ瀬戸大橋は、世界最長の鉄道道路併用橋として、上部に道路が、下部に線路が併設されている
101	瀬戸内しまなみ海道	尾道・今治ルートには瀬戸内しまなみ海道という別名があり、自転車で小島を巡りながら走ることもできる
102	後樂園	岡山城に設けられた後樂園は日本三名園の1つに数えられる
103	宮島	厳島神社を含む安芸の宮島は日本三景の1つに数えられる
104	石見銀山	島根県の石見銀山は数百年にわたり世界的な銀の産地として栄え、世界遺産に登録されている
105	萩	山口県萩市は長州藩の城下町で、明治維新時の建物などが世界遺産に登録されている
106	原爆ドーム、厳島神社	広島県には原爆ドームと厳島神社の2つの世界遺産がある