

都道府県と主な都市

- 都道府県名と県庁所在地を答えよ
- ・新幹線の終着駅がある・日本一深い湖がある
- 001
- ・竿灯祭が有名・稲作がさかん
 - ・天然三大美林の1つがある
 - ・伝統工芸品「曲げわっぱ」が有名
- ☆☆☆☆☆
- 秋田県・秋田市
-
- 都道府県名と県庁所在地を答えよ
- ・新幹線の終着駅がある・四大公害病の1つが発生
- 002
- ・冬は豪雪地帯・トキの保護に取り組む
 - ・洋食器や刃物が有名・稲作がさかん
- ☆☆☆☆☆
- 新潟県・新潟市
-
- 都道府県名と県庁所在地を答えよ
- ・全国最多の8人の総理大臣を輩出
- 003
- ・石灰岩のカルスト地形
 - ・セメント工業がさかん
 - ・ふぐの養殖がさかん・ザビエルが滞在した
- ☆☆☆☆☆
- 山口県・山口市
-
- 都道府県名と県庁所在地を答えよ
- ・促成栽培がさかんでピーマン・きゅうりの生産量が日本一
- 004
- ・食用鶏の飼育数が日本で肉牛、ぶたも全国有数
 - ・リチウムイオン電池でノーベル賞受賞者を輩出した企業
- ☆☆☆☆☆
- 宮崎県・宮崎市
-
- 都道府県名と県庁所在地を答えよ
- ・水不足に悩まされ日本最古のため池が作られた
- 005
- ・うちわの生産が日本一
 - ・世界最長の鉄道橋・面積が日本一小さい
- ☆☆☆☆☆
- 香川県・高松市
-
- 都道府県名と県庁所在地を答えよ
- ・2つの政令指定都市がある・日本最大級の古墳がある
- 006
- ・面積は都道府県中2番目に小さい
 - ・日本で3番目に人口の多い百万都市がある
 - ・かつて「天下の台所」と呼ばれた
- ☆☆☆☆☆
- 大阪府・大阪市
-
- 都道府県名と県庁所在地を答えよ
- ・日本三名園の一つがある
- 007
- ・伝統工芸がさかん
 - ・新幹線の終着駅がある
- ☆☆☆☆☆
- 石川県・金沢市
-
- 都道府県名と県庁所在地を答えよ
- ・県庁所在地が県内第3の都市
- 008
- ・面積は都道府県中3番目の大きさ
 - ・日本で4番目に大きい湖
 - ・桃の生産が全国第2位
- ☆☆☆☆☆
- 福島県・福島市
-
- 都道府県名と県庁所在地を答えよ
- ・一級河川がない唯一の都道府県
- 009
- ・さとうきび、パイナップルの生産量が日本一
 - ・かつての王国跡が世界文化遺産
 - ・1972年までアメリカ領で、現在もアメリカ軍基地が多数
- ☆☆☆☆☆
- 沖縄県・那覇市

- 都道府県名と県庁所在地を答えよ
- ・日本一湖面標高の高い湖がある
- 010
- ・乳牛の飼育頭数が全国第2位
 - ・かんぴょうやいちごの生産がさかん
 - ・江戸時代からの建造物が世界文化遺産に指定
- ☆☆☆☆☆
- 栃木県・宇都宮市
-
- 都道府県名と県庁所在地を答えよ
- ・扇状地での果物栽培がさかんで、ぶどうと桃は日本一
- 011
- ・三大急流の一つが流れ、戦国時代からの堤防が残る
 - ・リニア中央新幹線が建設中
- ☆☆☆☆☆
- 山梨県・甲府市
-
- 都道府県名と県庁所在地を答えよ
- ・国宝、重要文化財の数が日本一
- 012
- ・県南部には人工三大美林として有名な杉の山地
 - ・かつて日本の都が置かれた
- ☆☆☆☆☆
- 奈良県・奈良市
-
- 都道府県名と県庁所在地を答えよ
- ・森林率が84%で日本一
- 013
- ・「日本最後の清流」と呼ばれる川がある
 - ・和紙の生産がさかん
 - ・促成栽培がさかんでなす・みょうがの生産量が日本一
- ☆☆☆☆☆
- 高知県・高知市
-
- 都道府県名と県庁所在地を答えよ
- ・県東部にはリアス海岸がある
- 014
- ・畜産がさかん
 - ・伝統工芸品の南部鉄器が有名
 - ・都道府県中第2位の面積
- ☆☆☆☆☆
- 岩手県・盛岡市
-
- 都道府県名と県庁所在地を答えよ
- ・世界一登山者の多い山がある
- 015
- ・世界自然遺産がある
 - ・日本の最南端、最東端の地点がある
- ☆☆☆☆☆
- 東京都・東京（新宿区）
-
- 都道府県名と県庁所在地を答えよ
- ・天然三大美林の一つがある
- 016
- ・日本で一番他県との県境が多い
 - ・高原野菜や果実の生産がさかん
 - ・日本一長い川が流れる・善光寺の門前町
- ☆☆☆☆☆
- 長野県・長野市
-
- 都道府県名と県庁所在地を答えよ
- ・日本で4番目に人口の多い百万都市がある
- 017
- ・工業生産額が日本一
 - ・近郊農業のキャベツ生産や電照菊の栽培がさかん
- ☆☆☆☆☆
- 愛知県・名古屋市
-
- 都道府県名と県庁所在地を答えよ
- ・ぶどう、桃の生産がさかん
- 018
- ・日本三名園の一つがある
 - ・かつて塩田があった湾を干拓し、コンビナートを建設
- ☆☆☆☆☆
- 岡山県・岡山市
-
- 都道府県名と県庁所在地を答えよ
- ・トマト、すいか、い草の生産量が日本一
- 019
- ・四大公害病の一つが発生
 - ・三大急流の一つが流れる
 - ・世界最大級のカルデラがある
- ☆☆☆☆☆
- 熊本県・熊本市

都道府県と主な都市

□020	<p>都道府県名と県庁所在地を答えよ</p> <ul style="list-style-type: none"> ・いちご、小麦の生産量全国2位 ・世界文化遺産がある ・政令指定都市が2つある・新幹線の終着駅がある 	☆☆☆☆☆	福岡県・福岡市
□021	<p>都道府県名と県庁所在地を答えよ</p> <ul style="list-style-type: none"> ・明治時代からの建造物が世界文化遺産に指定 ・こんにゃく生産が日本一 ・高原野菜の生産がさかん ・冬の乾いた冷たい季節風が有名 	☆☆☆☆☆	群馬県・前橋市
□022	<p>都道府県名と県庁所在地を答えよ</p> <ul style="list-style-type: none"> ・世界文化遺産がある ・落差日本一の滝がある ・6頭のパンダがいる ・柿と梅とみかんの生産が日本一 	☆☆☆☆☆	和歌山県・和歌山市
□023	<p>都道府県名と県庁所在地を答えよ</p> <ul style="list-style-type: none"> ・日本最大のカルデラ湖がある ・世界自然遺産がある ・日本で5番目に人口の多い百万都市がある ・オリンピックが開かれた 	☆☆☆☆☆	北海道・札幌市
□024	<p>都道府県名と県庁所在地を答えよ</p> <ul style="list-style-type: none"> ・面積が日本最大の市町村がある ・北部は豪雪地帯で世界文化遺産がある ・南部には3つの川が流れ、低湿地帯に輪中が作られる 	☆☆☆☆☆	岐阜県・岐阜市
□025	<p>都道府県名と県庁所在地を答えよ</p> <ul style="list-style-type: none"> ・タマネギの生産が全国で2番目に多い ・のりの養殖がさかん ・多数のクリーク（水路）が走る 	☆☆☆☆☆	佐賀県・佐賀市
□026	<p>都道府県名と県庁所在地を答えよ</p> <ul style="list-style-type: none"> ・全国で最も市の数が多い ・日本最高気温を記録した地点がある ・小松菜やねぎ、ほうれん草などの近郊農業がさかん 	☆☆☆☆☆	埼玉県・さいたま市
□027	<p>都道府県名と県庁所在地を答えよ</p> <ul style="list-style-type: none"> ・なしやらっきょうの生産がさかん ・地域有数の漁港がある ・日本一人口が少ない都道府県 	☆☆☆☆☆	鳥取県・鳥取市
□028	<p>都道府県名と県庁所在地を答えよ</p> <ul style="list-style-type: none"> ・じゃがいも生産が全国第2位 ・真珠の生産が全国第2位 ・ビワの生産が日本一 ・西岸はリアス海岸・島の数が日本一多い 	☆☆☆☆☆	長崎県・長崎市
□029	<p>都道府県名と県庁所在地を答えよ</p> <ul style="list-style-type: none"> ・世界ジオパークに認定された島がある ・日本有数の古い神社がある ・世界文化遺産がある ・しじみの漁獲がさかんな汽水湖がある 	☆☆☆☆☆	島根県・松江市

都道府県と主な都市

□ 030	<p>都道府県名と県庁所在地を答えよ</p> <ul style="list-style-type: none"> ・2つの政令指定都市がある ・人工三大美林の1つがある ・茶の生産量が日本一 ・楽器とオートバイの生産で有名な企業 	☆☆☆☆☆	静岡県・静岡市
□ 031	<p>都道府県名と県庁所在地を答えよ</p> <ul style="list-style-type: none"> ・日本最大の貿易港がある ・近郊農業による野菜生産がさかん ・臨海部は工業地域・副都心を形成 	☆☆☆☆☆	千葉県・千葉市
□ 032	<p>都道府県名と県庁所在地を答えよ</p> <ul style="list-style-type: none"> ・原子力関連施設が多数 ・天然三大美林の1つがある ・世界自然遺産がある ・ねぶた祭が有名・りんごの生産日本一 	☆☆☆☆☆	青森県・青森市
□ 033	<p>都道府県名と県庁所在地を答えよ</p> <ul style="list-style-type: none"> ・新幹線の終着駅がある ・畜産がさかん ・世界自然遺産がある ・活発な火山とシラス台地 	☆☆☆☆☆	鹿児島県・鹿児島市
□ 034	<p>都道府県名と県庁所在地を答えよ</p> <ul style="list-style-type: none"> ・うず潮で有名な海峡と橋がある ・三大暴れ川の1つが流れる ・すだちの生産量日本一 ・夏の阿波踊りで有名 	☆☆☆☆☆	徳島県・徳島市
□ 035	<p>都道府県名と県庁所在地を答えよ</p> <ul style="list-style-type: none"> ・日本三景の1つがある ・多くの世界遺産や伝統的工芸品がある ・かつて日本の都が置かれた 	☆☆☆☆☆	京都府・京都市
□ 036	<p>都道府県名と県庁所在地を答えよ</p> <ul style="list-style-type: none"> ・日本最大級のダムがある ・四大公害病の1つが発生 ・チューリップ栽培で有名 ・薬売りが古くから有名で現在も製薬業がさかん 	☆☆☆☆☆	富山県・富山市
□ 037	<p>都道府県名と県庁所在地を答えよ</p> <ul style="list-style-type: none"> ・新幹線の終着駅がある ・日本三大急流の1つが流れる ・北前船の拠点があった ・おうとう（さくらんぼ）の生産が日本一 	☆☆☆☆☆	山形県・山形市
□ 038	<p>都道府県名と県庁所在地を答えよ</p> <ul style="list-style-type: none"> ・日本三景の1つがある ・百万都市がある ・七夕祭りが有名 ・伝統こけしが有名 	☆☆☆☆☆	宮城県・仙台市
□ 039	<p>都道府県名と県庁所在地を答えよ</p> <ul style="list-style-type: none"> ・温泉の数が日本一多い ・日本最大の地熱発電所がある ・東岸はリアス海岸で石油化学工業がさかん 	☆☆☆☆☆	大分県・大分市

都道府県名と県庁所在地を答えよ
・日本三景の1つがある
 040 ・河口の三角州に百万都市がある
・2つの世界遺産がある
・かきの養殖がさかん
☆☆☆☆☆ 広島県・広島市

都道府県名と県庁所在地を答えよ
・人工三大美林の1つがある
 041 ・四大公害病の1つが発生
・世界初の真珠の養殖に成功
・皇室の氏神をまつる神社がある
☆☆☆☆☆ 三重県・津市

都道府県名と県庁所在地を答えよ
 042 ・2つの百万都市と3つの政令指定都市がある
・自動車輸出の多い日本有数の貿易港がある
☆☆☆☆☆ 神奈川県・横浜市

都道府県名と県庁所在地を答えよ
・日本三名園の1つがある
 043 ・新幹線が通る
・日本で2番目に大きい湖がある
・白菜・ピーマンなどの近郊農業がさかん
☆☆☆☆☆ 茨城県・水戸市

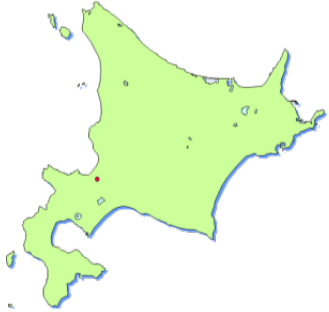
都道府県名と県庁所在地を答えよ
・新幹線が延伸予定
 044 ・リアス海岸がある
・原子力発電所が多数
・めがね枠の生産が全国一
☆☆☆☆☆ 福井県・福井市

都道府県名と県庁所在地を答えよ
・タマネギの生産が全国第3位
 045 ・百万都市がある
・世界文化遺産がある
・古くからの貿易港と人工島
☆☆☆☆☆ 兵庫県・神戸市

都道府県名と県庁所在地を答えよ
・段々畑でみかんの生産がさかん
 046 ・タオル生産で有名
・西部のリアス海岸で真珠の養殖
・夏目漱石「坊ちゃん」の舞台
☆☆☆☆☆ 愛媛県・松山市

都道府県名と県庁所在地を答えよ
 047 ・世界文化遺産がある
・日本一支流の多い川の水源がある
・県の面積の5分の1が湖
☆☆☆☆☆ 滋賀県・大津市

048 図の都道府県名と県庁所在地を答えよ



☆☆☆☆☆ 北海道・札幌市

□049 図の都道府県名と県庁所在地を答えよ



☆☆☆☆☆

青森県・青森市

□050 図の都道府県名と県庁所在地を答えよ



☆☆☆☆☆

千葉県・千葉市

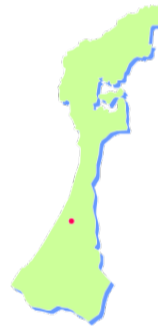
□051 図の都道府県名と県庁所在地を答えよ



☆☆☆☆☆

新潟県・新潟市

□052 図の都道府県名と県庁所在地を答えよ



☆☆☆☆☆

石川県・金沢市

□053 図の都道府県名と県庁所在地を答えよ



☆☆☆☆☆

滋賀県・大津市

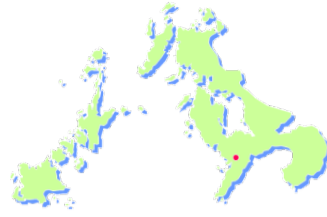
□054 図の都道府県名と県庁所在地を答えよ



☆☆☆☆☆

兵庫県・神戸市

□055 図の都道府県名と県庁所在地を答えよ



☆☆☆☆☆

長崎県・長崎市

□056 図の都道府県名と県庁所在地を答えよ



☆☆☆☆☆

鹿児島県・鹿児島市

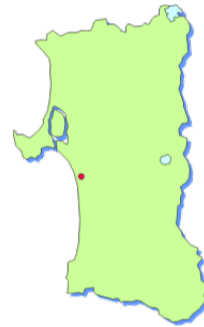
□057 図の都道府県名と県庁所在地を答えよ



☆☆☆☆☆

沖縄県・那覇市

□058 図の都道府県名と県庁所在地を答えよ



☆☆☆☆

秋田県・秋田市

□059 図の都道府県名と県庁所在地を答えよ



☆☆☆☆

福島県・福島市

□060 図の都道府県名と県庁所在地を答えよ



☆☆☆☆

静岡県・静岡市

□061 図の都道府県名と県庁所在地を答えよ



☆☆☆☆

島根県・松江市

□062 図の都道府県名と県庁所在地を答えよ



☆☆☆☆

愛媛県・松山市

□063 図の都道府県名と県庁所在地を答えよ



☆☆☆☆

茨城県・水戸市

□064 図の都道府県名と県庁所在地を答えよ



☆☆☆☆

群馬県・前橋市

□065 図の都道府県名と県庁所在地を答えよ



☆☆☆☆

東京都・東京(新宿区)

□066 図の都道府県名と県庁所在地を答えよ



☆☆☆☆

富山県・富山市

□067 図の都道府県名と県庁所在地を答えよ



☆☆☆☆

岐阜県・岐阜市

□068 図の都道府県名と県庁所在地を答えよ



☆☆☆☆

愛知県・名古屋市

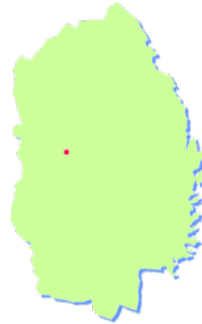
□069 図の都道府県名と県庁所在地を答えよ



☆☆☆

熊本県・熊本市

□070 図の都道府県名と県庁所在地を答えよ



☆☆☆

岩手県・盛岡市

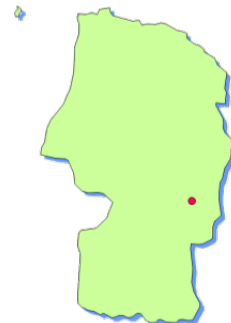
□071 図の都道府県名と県庁所在地を答えよ



☆☆☆

宮城県・仙台市

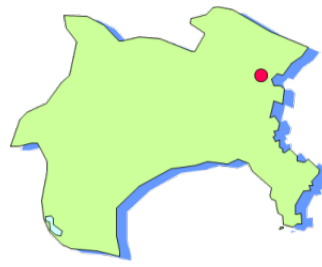
□072 図の都道府県名と県庁所在地を答えよ



☆☆☆

山形県・山形市

□073 図の都道府県名と県庁所在地を答えよ



☆☆☆

神奈川県・横浜市

□074 図の都道府県名と県庁所在地を答えよ



☆☆☆

大阪府・大阪市

□075 図の都道府県名と県庁所在地を答えよ



☆☆☆

和歌山県・和歌山市

□076 図の都道府県名と県庁所在地を答えよ



☆☆☆

香川県・高松市

□077 図の都道府県名と県庁所在地を答えよ



☆☆☆

高知県・高知市

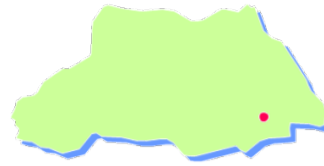
□078 図の都道府県名と県庁所在地を答えよ



☆☆

栃木県・宇都宮市

□079 図の都道府県名と県庁所在地を答えよ



☆☆

埼玉県・さいたま市

□080 図の都道府県名と県庁所在地を答えよ



☆☆

福井県・福井市

□081 図の都道府県名と県庁所在地を答えよ



☆☆

山梨県・甲府市

□082 図の都道府県名と県庁所在地を答えよ



☆☆

長野県・長野市

□083 図の都道府県名と県庁所在地を答えよ



☆☆

三重県・津市

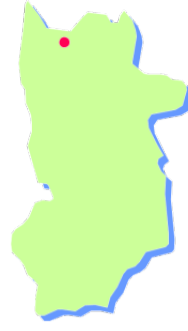
□084 図の都道府県名と県庁所在地を答えよ



☆☆

京都府・京都市

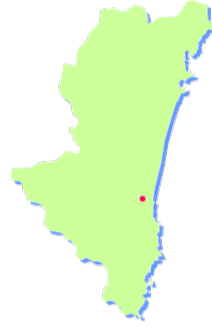
□085 図の都道府県名と県庁所在地を答えよ



☆☆

奈良県・奈良市

□086 図の都道府県名と県庁所在地を答えよ



☆☆

宮崎県・宮崎市

□087 図の都道府県名と県庁所在地を答えよ



☆☆

大分県・大分市

□088 図の都道府県名と県庁所在地を答えよ



☆☆

佐賀県・佐賀市

□089 図の都道府県名と県庁所在地を答えよ



☆☆

福岡県・福岡市

□090 図の都道府県名と県庁所在地を答えよ



☆☆

徳島県・徳島市

□091 図の都道府県名と県庁所在地を答えよ



☆☆

山口県・山口市

□092 図の都道府県名と県庁所在地を答えよ



☆☆

広島県・広島市

□093 図の都道府県名と県庁所在地を答えよ



☆☆

岡山県・岡山市


□094 図の都道府県名と県庁所在地を答えよ



☆☆

鳥取県・鳥取市


□095 北海道・東北地方の各県の県章をそれぞれ選べ



☆

A:宮城県 B:青森県
C:山形県 D:秋田県
E:岩手県 F:福島県
G:北海道

□096 関東地方の各県の県章をそれぞれ選べ



☆

A:茨城県 B:栃木県
C:群馬県 D:千葉県
E:埼玉県 F:神奈川県
G:東京都

□097 中部地方の各県の県章をそれぞれ選べ



☆

A:新潟県 B:静岡県
C:石川県 D:山梨県
E:愛知県
F:福井県 G:長野県
H:岐阜県 I:富山県

□098 近畿地方の各県の県章をそれぞれ選べ



☆

A:京都府 B:和歌山県
C:大阪府 D:兵庫県
E:奈良県 F:滋賀県
G:三重県

099 中国・四国地方の各県の県章をそれぞれ選べ



A:山口県 B:島根県
C:香川県 D:鳥取県
E:広島県 F:岡山県
G:愛媛県 H:徳島県
I:高知県

100 九州・沖縄地方の各県の県章をそれぞれ選べ



A:福岡県 B:佐賀県
C:鹿児島県 D:沖縄県
E:熊本県 F:宮崎県
G:長崎県 H:大分県

101 都道府県の面積が大きい順に3つ答えよ

☆☆☆☆☆

北海道・岩手県
・福島県

102 都道府県の面積が小さい順に3つ答えよ

☆☆☆☆☆

香川県・大阪府
・東京都

103 都道府県の人口が多い順に5つ答えよ

☆☆☆☆☆

東京都・神奈川県
・大阪府・愛知県
・埼玉県

104 都道府県の人口が少ない順に5つ答えよ

☆☆☆☆☆

鳥取県・島根県
・高知県・徳島県
・福井県

105 政令指定都市は2019年現在いくつあるか

☆☆☆☆☆

20市が指定されている

106 北海道・東北地方にある政令指定都市をすべて答えよ

☆☆☆☆☆

札幌市・仙台市

107 関東地方にある政令指定都市をすべて答えよ

☆☆☆☆☆

さいたま市・千葉市・
横浜市・川崎市
・相模原市

108 中部地方にある政令指定都市をすべて答えよ

☆☆☆☆☆

新潟市・静岡市
・浜松市・名古屋市

109 近畿地方にある政令指定都市をすべて答えよ

☆☆☆☆☆

京都市・大阪市
・堺市・神戸市

110 中国・四国地方にある政令指定都市をすべて答えよ

☆☆☆☆☆

岡山市・広島市

111 九州・沖縄地方にある政令指定都市をすべて答えよ

☆☆☆☆☆

福岡市・北九州市
・熊本市

112 政令指定都市が複数ある都道府県をすべて答えよ

☆☆☆☆☆

神奈川県・静岡県
・大阪府・福岡県

都道府県と主な都市

<input type="checkbox"/> 113	政令指定都市に設置される区と、東京都の23区（特別区）の違いを答えよ	☆☆	東京都の特別区には区議会が設置され、区長選挙が実施される
<input type="checkbox"/> 114	人口20万人以上の市に適用され、都道府県の権限の一部が委譲される都市制度を何というか	☆	中核市
<input type="checkbox"/> 115	政令指定都市・中核市のどちらもない3つの都道府県を答えよ	☆☆	三重県・徳島県・佐賀県
<input type="checkbox"/> 116	百万都市をすべて答えよ	☆☆☆☆☆	横浜市・大阪市・名古屋市・札幌市・福岡市・神戸市・川崎市・京都市・さいたま市・広島市・仙台市
<input type="checkbox"/> 117	県庁所在地が県内第一都市でない5つの都道府県を答えよ	☆☆	福島県・群馬県・静岡県・三重県・山口県
<input type="checkbox"/> 118	日本一面積の大きい市はどこか	☆☆	岐阜県高山市
<input type="checkbox"/> 119	日本一面積の小さい市はどこか	☆	埼玉県蕨（わらび）市
<input type="checkbox"/> 120	旧国名「大和国」は現在の何県にあたるか	☆☆☆☆	奈良県
<input type="checkbox"/> 121	旧国名「尾張国」「三河国」は現在の何県にあたるか	☆☆☆☆	愛知県
<input type="checkbox"/> 122	旧国名「伊勢国」は現在の何県にあたるか	☆☆☆☆	三重県
<input type="checkbox"/> 123	旧国名「薩摩国」は現在の何県にあたるか	☆☆☆☆	鹿児島県
<input type="checkbox"/> 124	旧国名「加賀国」「能登国」は現在の何県にあたるか	☆☆☆☆	石川県
<input type="checkbox"/> 125	旧国名「信濃国」は現在の何県にあたるか	☆☆☆☆	長野県
<input type="checkbox"/> 126	旧国名「越後国」は現在の何県にあたるか	☆☆☆☆	新潟県
<input type="checkbox"/> 127	旧国名「紀伊国」は現在の何県にあたるか	☆☆☆	和歌山県
<input type="checkbox"/> 128	旧国名「山城国」は現在の何県にあたるか	☆☆☆	京都府

都道府県と主な都市

<input type="checkbox"/> 129	旧国名「武蔵国」は現在の何県にあたるか	☆☆☆	東京都・埼玉県
<input type="checkbox"/> 130	旧国名「阿波国」は現在の何県にあたるか	☆☆☆	徳島県
<input type="checkbox"/> 131	旧国名「肥前国」は現在の何県にあたるか	☆☆☆	佐賀県・長崎県
<input type="checkbox"/> 132	旧国名「土佐国」は現在の何県にあたるか	☆☆☆	高知県
<input type="checkbox"/> 133	旧国名「讃岐国」は現在の何県にあたるか	☆☆	香川県
<input type="checkbox"/> 134	旧国名「日向国」は現在の何県にあたるか	☆☆	宮崎県
<input type="checkbox"/> 135	旧国名「美濃国」「飛騨国」は現在の何県にあたるか	☆☆	岐阜県
<input type="checkbox"/> 136	旧国名「越中国」は現在の何県にあたるか	☆☆	富山県
<input type="checkbox"/> 137	旧国名「上総国」「下総国」「安房国」は現在の何県にあたるか	☆☆	千葉県
<input type="checkbox"/> 138	旧国名「甲斐国」は現在の何県にあたるか	☆☆	山梨県
<input type="checkbox"/> 139	旧国名「出雲国」「石見国」は現在の何県にあたるか	☆☆	島根県
<input type="checkbox"/> 140	旧国名「伊予国」は現在の何県にあたるか	☆☆	愛媛県
<input type="checkbox"/> 141	旧国名「備中国」「備前国」「美作国」は現在の何県にあたるか	☆☆	岡山県
<input type="checkbox"/> 142	旧国名「安芸国」「備後国」は現在の何県にあたるか	☆☆	広島県
<input type="checkbox"/> 143	旧国名「肥後国」は現在の何県にあたるか	☆☆	熊本県
<input type="checkbox"/> 144	旧国名「陸奥国」は現在の何県にあたるか	☆☆	青森県

<input type="checkbox"/> 145 旧国名「出羽国」は現在の何県にあたるか	☆☆	秋田県・山形県
<input type="checkbox"/> 146 旧国名「下野国」は現在の何県にあたるか	☆☆	栃木県
<input type="checkbox"/> 147 旧国名「上野国」は現在の何県にあたるか	☆☆	群馬県
<input type="checkbox"/> 148 旧国名「近江国」は現在の何県にあたるか	☆☆	滋賀県
<input type="checkbox"/> 149 旧国名「相模国」は現在の何県にあたるか	☆☆	神奈川県
<input type="checkbox"/> 150 旧国名「越前国」「若狭国」は現在の何県にあたるか	☆☆	福井県
<input type="checkbox"/> 151 旧国名「駿河国」「遠江国」は現在の何県にあたるか	☆☆	静岡県
<input type="checkbox"/> 152 旧国名「周防国」「長門国」は現在の何県にあたるか	☆☆	山口県
<input type="checkbox"/> 153 旧国名「常陸国」は現在の何県にあたるか	☆☆	茨城県
<input type="checkbox"/> 154 旧国名「河内国」「和泉国」は現在の何県にあたるか	☆☆	大阪府
<input type="checkbox"/> 155 旧国名「播磨国」「但馬国」は現在の何県にあたるか	☆☆	兵庫県
<input type="checkbox"/> 156 旧国名「筑前国」「筑後国」は現在の何県にあたるか	☆☆	福岡県
<input type="checkbox"/> 157 旧国名「豊前国」「豊後国」は現在の何県にあたるか	☆☆	大分県

都道府県と主な都市 解答

001	秋田県・秋田市	秋田県の県庁所在地は秋田市。秋田新幹線の終着駅で、毎年8月には東北4大祭りの竿灯祭がある。秋田すぎは天然三大美林の1つで、田沢湖は日本一深い湖。大館市では曲げわっぱが有名。稲の出荷額が全国第3位。
002	新潟県・新潟市	新潟県は稲の出荷額が全国一。県庁所在地の新潟は上越新幹線の終着駅。絶滅の危機にあるトキ（朱鷺）が佐渡島で保護されている。燕市では洋食器、三条市では刃物の生産がさかん。阿賀野川ではかつて新潟水俣病が発生。
003	山口県・山口市	山口県の県庁所在地の山口市は、下関市に次ぐ第二都市。県西部の秋吉台は古生代のサンゴ礁に由来する石灰岩地形。宇部市ではセメント工業がさかん。安倍晋三をはじめ8人の総理大臣を輩出。戦国時代に大内氏がザビエルを保護した。
004	宮崎県・宮崎市	宮崎県の県庁所在地は宮崎市。野菜の促成栽培と畜産がさかん。延岡市は旭化成の企業城下町で、リチウムイオン電池の開発に貢献しノーベル化学賞を受賞した吉野彰氏が在籍。
005	香川県・高松市	香川県の県庁所在地は高松市。古くから水不足に悩まされ、空海が日本最大のため池である満濃池を改修、香川用水も1970年代に完成。丸亀市はうちわの生産で有名。坂出市は世界最長の鉄道橋である瀬戸大橋の四国側起点。
006	大阪府・大阪市	大阪府の府庁所在地大阪市は日本で3番目に人口が多く、かつては「天下の台所」とよばれた商人の町。関西国際空港ができるまでは日本一小さい都道府県だった。堺市も政令指定都市。百舌鳥古墳群は世界遺産で、大仙古墳（仁徳天皇陵）は日本最大。
007	石川県・金沢市	石川県の県庁所在地金沢市には、日本三名園の1つ兼六園がある。金沢駅は北陸新幹線の終着駅だが、福井県の敦賀まで延伸予定。県内では九谷焼・輪島塗・加賀友禅などの伝統工芸品がさかん。
008	福島県・福島市	福島県の県庁所在地の福島市は、いわき市、郡山市に次ぐ第三都市。桃の生産は全国第2位、稲作も全国で有数。猪苗代湖は全国で4番目に大きい湖。福島第一原子力発電所の事故からの復興が進んでいる。
009	沖縄県・那覇市	沖縄県の県庁所在地は那覇市。平野は狭く一級河川が存在せず、さとうきびやパイナップルの栽培がさかん。首里城をはじめとした琉球王国のグスクが世界文化遺産に認定されている。現在も宜野湾市の普天間飛行場をはじめ、多くの米軍基地が存在する。
010	栃木県・宇都宮市	栃木県の県庁所在地は宇都宮市。いちご、かんぴょうは生産量が日本一で、乳牛の飼育頭数も全国で2番目。徳川家康をまつる日光東照宮は世界文化遺産で、中禅寺湖は日本一湖面標高の高い湖。
011	山梨県・甲府市	山梨県の県庁所在地は甲府市で、甲府盆地を中心に桃・ぶどうの果樹栽培が日本一。三大急流の富士川が流れ、信玄堤が今も残る。リニア中央新幹線の実験線があり、2027年の開業を目指す。
012	奈良県・奈良市	奈良県の県庁所在地は奈良市で、かつて平城京がおかれ、古都奈良の文化財のほか、飛鳥の法隆寺と熊野古道で3つの世界遺産があり、国宝や重要文化財の数は日本一。県南部には人口三大美林の1つである吉野すぎの産地がある。
013	高知県・高知市	高知県の県庁所在地は高知市。面積の84%を森林が占める。四万十川は四国最長の河川で「日本最後の清流」と呼ばれる。土佐和紙は世界一薄い紙として知られる。
014	岩手県・盛岡市	岩手県の県庁所在地は盛岡市で、伝統工芸品の南部鉄器が有名。県東部はリアス海岸で三陸沖は好漁場となる。食用鶏（ブロイラー）が全国3番目のほか、乳牛・肉牛の生産もさかん。本州にある都道府県では最大の面積で、全都道府県中第2位の大きさ。
015	東京都・東京（新宿区）	東京都庁は新宿区にあるが、県庁所在地は東京とすることが多い。高尾山は世界一登山者の多い山。小笠原諸島は「東洋のガラパゴス」といわれる世界自然遺産。日本の最南端沖ノ鳥島と、最東端南鳥島がある。

016	長野県・長野市	長野県の県庁所在地長野市は善光寺の門前町。県内に流れる千曲川＝信濃川は日本最長。内陸県で、埼玉・群馬・新潟・富山・岐阜・愛知・静岡・山梨の8県と接する。天然三大美林の1つ木曾ひのきがある。
017	愛知県・名古屋市	愛知県の県庁所在地名古屋市は全国でも4番目に人口の多い大都市。自動車工業を中心に、工業生産額が日本一。近郊農業によるキャベツの生産が日本一。渥美半島での電照菊栽培がさかん。
018	岡山県・岡山市	岡山県の県庁所在地は岡山市で、日本三名園の1つ後樂園がある。ぶどうの生産は全国で4番目だが、マスカットのシェアは日本一。倉敷市水島地区には日本最大級のコンビナートがある。
019	熊本県・熊本市	熊本県の県庁所在地は熊本市。日本三大急流の球磨川が流れ、県東部は阿蘇カルデラが広がる。水俣湾では水俣病が発生。八代平野のい草のほか、トマト・すいかの生産が日本一の農業県。
020	福岡県・福岡市	福岡県の県庁所在地は福岡市で、山陽新幹線の終着駅は博多駅。北九州市も政令指定都市で、八幡製鉄所は世界文化遺産。小麦の生産は北海道に次ぐ2位、いちごは栃木県に次ぐ2位の生産量。
021	群馬県・前橋市	群馬県の県庁所在地の前橋市は高崎市に次ぐ第二都市。富岡製糸場が世界遺産。こんにゃくいもは下仁田町で生産。北西の季節風「からっ風」を防ぐ屋敷森がある家が多い。
022	和歌山県・和歌山市	和歌山県の県庁所在地は和歌山市。熊野古道は世界文化遺産。那智の滝は落差日本一の滝。白浜アドベンチャーワールドにはパンダが6頭。みかん、梅、柿の生産が日本一。
023	北海道・札幌市	北海道の道庁所在地札幌市は人口196万の大都市で、1972年に冬季オリンピックが開かれた。知床は世界自然遺産に認定。屈斜路湖は日本最大のカルデラ湖。
024	岐阜県・岐阜市	岐阜県の県庁所在地は岐阜市で、濃尾平野には西から揖斐川・木曾川・長良川が流れ輪中が作られる。高山市は面積が最大の市町村。県北部の白川郷は合掌造り集落が世界文化遺産に認定。
025	佐賀県・佐賀市	佐賀県の県庁所在地は佐賀市。タマネギの生産は北海道に次ぐ2位。佐賀平野にはクリークと呼ばれる水路が多数引かれる。有明海ではのりの養殖がさかん。
026	埼玉県・さいたま市	埼玉県の県庁所在地はさいたま市。県内には40の市があり、日本で最多。熊谷市は日本最高気温41.1℃を記録。深谷市のねぎが有名で、千葉や茨城と並ぶ近郊農業のさかんな県。
027	鳥取県・鳥取市	鳥取県の県庁所在地は鳥取市。らっきょうの生産が日本一で、なしの生産量は全国第4位。境港は日本海側最大の漁港。人口は57万人で全国最少。
028	長崎県・長崎市	長崎県の県庁所在地は長崎市。じゃがいもの生産は北海道に次ぐ2位。西部はリアス海岸で真珠養殖が愛媛県に次ぐ2位。壱岐・対馬などの離島が971個あり、全都道府県中最多。
029	島根県・松江市	島根県の県庁所在地は松江市。隠岐島は世界ジオパークに認定。出雲大社は日本有数の歴史がある。石見銀山は世界文化遺産。中海・宍道湖は汽水湖で、しじみ養殖がさかん。
030	静岡県・静岡市	静岡県の県庁所在地の静岡市は浜松市に次ぐ第二都市。天竜すぎは人工三大美林の1つ。茶の生産は牧ノ原台地を中心に、日本一の生産量。浜松では楽器・オートバイの生産がさかん。
031	千葉県・千葉市	千葉県の県庁所在地は千葉市。成田国際空港は輸出入総額が全国一の貿易港。京葉工業地域を形成するが、ほうれん草・ねぎをはじめ数多くの野菜が日本一の生産量となる農業県でもある。

032	青森県・青森市	青森県の県庁所在地は青森市で、毎年8月のねぶた祭は東北4大祭りの1つ。六ヶ所村には核燃料再処理施設。津軽ひばは天然三大美林の1つ。白神山地のぶなの原生林は世界自然遺産。
033	鹿児島県・鹿児島市	鹿児島県の県庁所在地は鹿児島市で、鹿児島中央駅は九州新幹線の終着駅。豚は全国一、肉牛とブロイラーは2位の飼育頭数。屋久島は世界自然遺産。桜島と鹿児島湾は巨大なカルデラで、その火山灰がシラス台地になった。
034	徳島県・徳島市	徳島県の県庁所在地は徳島市で、夏の阿波踊りが有名。吉野川は「吉野三郎」といわれる三大暴れ川の1つ。淡路島につながる鳴門海峡大橋からはうず潮が見られる。
035	京都府・京都市	京都府の府庁所在地は京都市で、平安時代から1100年間日本の都であった。北部にある天橋立は日本三景の1つ。古都京都として17の寺社仏閣が世界文化遺産に認定。西陣織・清水焼など多数の伝統的工芸品。
036	富山県・富山市	富山県の県庁所在地は富山市で、江戸時代からの薬売りが有名。県内を流れる神通川ではイタイイタイ病が発生。黒部ダムは日本最大級のダムで、関西地方の電力を担う。砺波平野ではチューリップ栽培がさかん。
037	山形県・山形市	山形県の県庁所在地は山形市だが、山形新幹線の終着駅は新庄駅。最上川は日本三大急流の1つで、河口にある酒田は北前船の拠点であった。さくらんぼの他、洋梨も日本一で、りんご・ぶどうも全国第3位。
038	宮城県・仙台市	宮城県の県庁所在地は仙台市で、東北地方唯一の百万都市。毎年8月の七夕祭りは東北四大祭りの1つ。松島は日本三景の1つ。
039	大分県・大分市	大分県の県庁所在地は大分市で、石油化学コンビナートがある。別府を始め数多くの温泉がある。八丁原地熱発電所は日本最大の地熱発電所。
040	広島県・広島市	広島県の県庁所在地は広島市で、太田川河口の三角州にできた百万都市。安芸の宮島は日本三景の1つで、厳島神社と原爆ドームが世界文化遺産に認定。かきの養殖出荷額は日本一。
041	三重県・津市	三重県の県庁所在地の津市は四日市市に次ぐ第二都市。四日市市は工業の中心地で、四日市ぜんそくが発生。尾鷲ひのきは人口三大美林の1つ。志摩半島は日本初の真珠養殖の地で、生産量は全国第3位。伊勢神宮には皇室の氏神がまつられる。
042	神奈川県・横浜市	神奈川県の県庁所在地は横浜市で、全国第2位の人口を誇る。川崎市も百万都市で、相模原市も含め3つの政令指定都市がある。自動車工業がさかんで横浜港は日本有数の貿易港。
043	茨城県・水戸市	茨城県の県庁所在地は水戸市で、日本三名園の1つ偕楽園がある。古河市を東北新幹線が通過するが駅はない。霞ヶ浦は日本で2番目に大きい湖。白菜やピーマンをはじめとした野菜、稲作もさかん。
044	福井県・福井市	福井県の県庁所在地は福井市で、2023年以降に北陸新幹線が金沢から延伸予定。敦賀湾沿岸はリアス海岸で、原子力発電所が多数。鯖江市はめがね枠生産日本一。
045	兵庫県・神戸市	兵庫県の県庁所在地は神戸市で、神戸港には人工島ポートアイランドが建設。姫路城は世界文化遺産。淡路島を中心にタマネギの生産がさかん。
046	愛媛県・松山市	愛媛県の県庁所在地は松山市で、夏目漱石「坊ちゃん」の舞台。坂出市ではタオルの生産が有名。みかんの生産は和歌山に次ぐ2位だが、柑橘類全体の生産は全国一。真珠の養殖は長崎県に次ぐ2位。
047	滋賀県・大津市	滋賀県の県庁所在地は大津市。県の面積の5分の1を占める琵琶湖は、瀬田川→宇治川→淀川の水源地で、淀川は支流が最も多い川。比叡山延暦寺は滋賀県にあるが、「古都京都の文化財」として世界遺産。

048	北海道・札幌市	面積83450km ² (1位) 人口529万人 (8位) 札幌市 (197万人) ・旭川市 (33万人) ・函館市 (26万人)
049	青森県・青森市	面積9646km ² (8位) 人口126万人 (31位) 青森市 (28万人) ・八戸市 (23万人) ・弘前市 (17万人)
050	千葉県・千葉市	面積5158km ² (28位) 人口627万人 (6位) 千葉市 (98万人) ・船橋市 (64万人) ・市川市 (49万人)
051	新潟県・新潟市	面積12584km ² (5位) 人口225万人 (15位) 新潟市 (80万人) ・長岡市 (27万人) ・上越市 (19万人)
052	石川県・金沢市	面積4186km ² (35位) 人口114万人 (33位) 金沢市 (47万人) ・白山市 (11万人) ・小松市 (11万人)
053	滋賀県・大津市	面積4017km ² (38位) 人口141万人 (26位) 大津市 (34万人) ・草津市 (14万人) ・長浜市 (12万人)
054	兵庫県・神戸市	面積8400km ² (12位) 人口548万人 (7位) 神戸市 (153万人) ・姫路市 (53万人) ・西宮市 (49万人)
055	長崎県・長崎市	面積4131km ² (37位) 人口134万人 (30位) 長崎市 (42万人) ・佐世保市 (25万人) ・諫早市 (14万人)
056	鹿児島県・鹿児島市	面積9187km ² (10位) 人口161万人 (24位) 鹿児島市 (60万人) ・霧島市 (12万人) ・鹿屋市 (10万人)
057	沖縄県・那覇市	面積2281km ² (44位) 人口148万人 (25位) 那覇市 (32万人) ・沖縄市 (14万人) ・うるま市 (12万人)
058	秋田県・秋田市	面積11638km ² (6位) 人口98万人 (38位) 秋田市 (31万人) ・横手市 (9万人) ・大仙市 (8万人)
059	福島県・福島市	面積13784km ² (3位) 人口187万人 (21位) いわき市 (34万人) ・郡山市 (33万人) ・福島市 (29万人)
060	静岡県・静岡市	面積7777km ² (13位) 人口366万人 (10位) 浜松市 (79万人) ・静岡市 (70万人) ・富士市 (25万人)
061	島根県・松江市	面積6708km ² (19位) 人口68万人 (46位) 松江市 (20万人) ・出雲市 (17万人) ・浜田市 (6万人)
062	愛媛県・松山市	面積5676km ² (26位) 人口135万人 (28位) 松山市 (51万人) ・今治市 (15万人) ・新居浜市 (12万人)
063	茨城県・水戸市	面積6097km ² (24位) 人口288万人 (11位) 水戸市 (27万人) ・つくば市 (24万人) ・日立市 (18万人)

064	群馬県・前橋市	面積6362km ² (21位) 人口195万人 (19位) 高崎市 (37万人) ・前橋市 (33万人) ・太田市 (22万人)
065	東京都・東京 (新宿区)	面積2194km ² (45位) 人口1384万人 (1位) 23区 (948万人) ・八王子市 (58万人) ・町田市 (43万人)
066	富山県・富山市	面積4248km ² (33位) 人口105万人 (37位) 富山市 (42万人) ・高岡市 (17万人) ・射水市 (9万人)
067	岐阜県・岐阜市	面積10621km ² (7位) 人口200万人 (17位) 岐阜市 (40万人) ・大垣市 (16万人) ・各務原市 (14万人)
068	愛知県・名古屋市	面積5173km ² (27位) 人口754万人 (4位) 名古屋市 (232万人) ・豊田市 (43万人) ・岡崎市 (39万人)
069	熊本県・熊本市	面積7410km ² (15位) 人口176万人 (23位) 熊本市 (74万人) ・八代市 (12万人) ・天草市 (8万人)
070	岩手県・盛岡市	面積15275km ² (2位) 人口124万人 (32位) 盛岡市 (29万人) ・一関市 (12万人) ・奥州市 (12万人)
071	宮城県・仙台市	面積7282km ² (16位) 人口231万人 (14位) 仙台市 (109万人) ・石巻市 (14万人) ・大崎市 (13万人)
072	山形県・山形市	面積9232km ² (9位) 人口109万人 (35位) 山形市 (25万人) ・鶴岡市 (13万人) ・酒田市 (10万人)
073	神奈川県・横浜市	面積2416km ² (43位) 人口918万人 (2位) 横浜市 (374万人) ・川崎市 (152万人) ・相模原市 (72万人)
074	大阪府・大阪市	面積1905km ² (46位) 人口882万人 (3位) 大阪市 (273万人) ・堺市 (83万人) ・東大阪市 (50万人)
075	和歌山県・和歌山市	面積4725km ² (30位) 人口93万人 (40位) 和歌山市 (36万人) ・田辺市 (7万人) ・橋本市 (6万人)
076	香川県・高松市	面積1877km ² (47位) 人口96万人 (39位) 高松市 (42万人) ・丸亀市 (11万人) ・三豊市 (6万人)
077	高知県・高知市	面積7104km ² (18位) 人口71万人 (45位) 高知市 (33万人) ・南国市 (5万人) ・四万十市 (3万人)
078	栃木県・宇都宮市	面積6408km ² (20位) 人口195万人 (18位) 宇都宮市 (52万人) ・小山市 (17万人) ・栃木市 (16万人)
079	埼玉県・さいたま市	面積3798km ² (39位) 人口732万人 (5位) さいたま市 (130万人) ・川口市 (59万人) ・川越市 (35万人)

080	福井県・福井市	面積4191km ² (34位) 人口77万人 (43位) 福井市 (26万人) ・坂井市 (9万人) ・越前市 (8万人)
081	山梨県・甲府市	面積4465km ² (32位) 人口82万人 (42位) 甲府市 (19万人) ・甲斐市 (8万人) ・南アルプス市 (7万人)
082	長野県・長野市	面積13562km ² (4位) 人口206万人 (16位) 長野市 (37万人) ・松本市 (24万人) ・上田市 (16万人)
083	三重県・津市	面積5774km ² (25位) 人口180万人 (22位) 四日市市 (31万人) ・津市 (28万人) ・鈴鹿市 (20万人)
084	京都府・京都市	面積4612km ² (31位) 人口260万人 (13位) 京都市 (147万人) ・宇治市 (18万人) ・亀岡市 (9万人)
085	奈良県・奈良市	面積3691km ² (40位) 人口134万人 (29位) 奈良市 (36万人) ・橿原市 (12万人) ・生駒市 (12万人)
086	宮崎県・宮崎市	面積7735km ² (14位) 人口108万人 (36位) 宮崎市 (40万人) ・都城市 (16万人) ・延岡市 (12万人)
087	大分県・大分市	面積6341km ² (22位) 人口114万人 (34位) 大分市 (48万人) ・別府市 (12万人) ・中津市 (8万人)
088	佐賀県・佐賀市	面積2441km ² (42位) 人口82万人 (41位) 佐賀市 (23万人) ・唐津市 (12万人) ・鳥栖市 (7万人)
089	福岡県・福岡市	面積4987km ² (29位) 人口511万人 (9位) 福岡市 (158万人) ・北九州市 (95万人) ・久留米市 (30万人)
090	徳島県・徳島市	面積4147km ² (36位) 人口74万人 (44位) 徳島市 (26万人) ・阿南市 (7万人) ・鳴門市 (6万人)
091	山口県・山口市	面積6113km ² (23位) 人口137万人 (27位) 下関市 (26万人) ・山口市 (20万人) ・宇部市 (17万人)
092	広島県・広島市	面積8480km ² (11位) 人口282万人 (12位) 広島市 (120万人) ・福山市 (46万人) ・呉市 (22万人)
093	岡山県・岡山市	面積7114km ² (17位) 人口190万人 (20位) 岡山市 (72万人) ・倉敷市 (48万人) ・津山市 (10万人)
094	鳥取県・鳥取市	面積3507km ² (41位) 人口56万人 (47位) 鳥取市 (19万人) ・米子市 (15万人) ・倉吉市 (5万人)
095	A:宮城県 B:青森県 C:山形県 D:秋田県 E:岩手県 F:福島県 G:北海道	A:宮城の「み」 B:青森県の形 C:山 D:秋田の「ア」 E:岩手の「岩」 F:福島の「ふ」 G:光り輝く星のイメージ

096	A:茨城県 B:栃木県 C:群馬県 D:千葉県 E:埼玉県 F:神奈川県 G:東京都	A:「ばら」のつぼみ B:栃木の「栃」 C:群馬の「群」 D:「チ」「ハ」 E:勾玉のイメージ F:神奈川の「神」 G:東京(Tokyo)の「T」
097	A:新潟県 B:静岡県 C:石川県 D:山梨県 E:愛知県 F:福井県 G:長野県 H:岐阜県 I:富山県	A:「新」と「ガ」「タ」 B:富士山のイメージ C:石川県の形 D:山 E:「あ」「い」「ち」 F:「フ」「ク」「イ」 G:長野の「ナ」 H:岐阜の「岐」 I:富山の「と」
098	A:京都府 B:和歌山県 C:大阪府 D:兵庫県 E:奈良県 F:滋賀県 G:三重県	A:京都の「京」 B:和歌山の「ワ」 C:大阪(Osaka)の「O」 D:兵庫の「兵」 E:奈良の「ナ」 F:「シ」「ガ」 G:三重の「み」
099	A:山口県 B:島根県 C:香川県 D:鳥取県 E:広島県 F:岡山県 G:愛媛県 H:徳島県 I:高知県	A:「山」「口」 B:「マ」が4つで「シマ」 C:香川の「カ」 D:鳥のイメージ E:広島の「ヒ」 F:岡山の「岡」 G:みかんの花のイメージ H:徳島の「と」「く」 I:旧国名の土佐から「と」「さ」
100	A:福岡県 B:佐賀県 C:鹿児島県 D:沖縄県 E:熊本県 F:宮崎県 G:長崎県 H:大分県	A:福岡の「ふ」 B:「ガ」が3つで「サガ」 C:鹿児島県の形 D:沖縄(Okinawa)の「O」 E:熊本の「ク」 F:旧国名の日向から「向」 G:長崎(Nagasaki)の「N」 H:大分の「大」
101	北海道・岩手県・福島県	次いで面積が大きいのは長野県・新潟県・岐阜県
102	香川県・大阪府・東京都	次いで面積が小さいのは沖縄県・神奈川県・佐賀県
103	東京都・神奈川県・大阪府・愛知県・埼玉県	次いで人口が多いのは千葉県・兵庫県・北海道・福岡県・静岡県
104	鳥取県・島根県・高知県・徳島県・福井県	次いで人口が少ないのは山梨県・佐賀県・和歌山県
105	20市が指定されている	人口70万人を超える都市が政令により指定都市とされ、都道府県の権限の一部が市に移されるとともに、市内には区が設置される
106	札幌市・仙台市	北海道・東北地方では北海道の札幌市、宮城県の仙台市が政令指定都市とされている
107	さいたま市・千葉市・横浜市・川崎市・相模原市	関東地方では埼玉県のさいたま市、千葉県の千葉市、神奈川県の横浜市、川崎市、相模原市が政令指定都市とされている
108	新潟市・静岡市・浜松市・名古屋市	中部地方では新潟県の新潟市、静岡県静岡市、浜松市、愛知県の名古屋市が政令指定都市とされている
109	京都市・大阪市・堺市・神戸市	近畿地方では、京都府の京都市、大阪府の大阪市、堺市、兵庫県の神戸市が政令指定都市とされている
110	岡山市・広島市	中国地方では、岡山県の岡山市と広島県の広島市が政令指定都市とされている。四国地方には政令指定都市はない

111	福岡市・北九州市・熊本市	九州地方では、福岡県の福岡市と北九州市、熊本県の熊本市が政令指定都市とされている
112	神奈川県・静岡県・大阪府・福岡県	神奈川県には横浜・川崎・相模原の3つの政令指定都市があり、静岡県は静岡・浜松、大阪府は大阪・堺、福岡県は福岡・北九州が政令指定都市となっている
113	東京都の特別区には区議会が設置され、区長選挙が実施される	政令指定都市に設置される区の区長は市長が任命する
114	中核市	2019年現在、全国で58の市が中核市に指定されている
115	三重県・徳島県・佐賀県	三重県・徳島県・佐賀県には中核市に指定されている大都市がない
116	横浜市・大阪市・名古屋市・札幌市・福岡市・神戸市・川崎市・京都市・さいたま市・広島市・仙台市	東京（23区）を含める場合もある
117	福島県・群馬県・静岡県・三重県・山口県	福島県（福島市）はいわき市・郡山市に次ぐ第三都市、群馬県（前橋市）は高崎市、静岡県（静岡市）は浜松市、三重県（津市）は四日市市、山口県（山口市）は下関市に次ぐ第二都市である
118	岐阜県高山市	高山市の面積は2177km ² で、大阪府、香川県よりも大きい。高山市に次いで面積が大きいのが静岡県浜松市、栃木県日光市
119	埼玉県蕨（わらび）市	わずか5km ² の範囲に75000人の人口が居住し、日本一人口密度の高い市でもある
120	奈良県	律令制度の「大和国」は、現在の奈良県にあたる 元来は奈良盆地東部を指す語で、ヤマト王権はこの地に置かれた
121	愛知県	律令制度の「尾張国」は現在の愛知県西部、「三河国」は愛知県東部にあたる。 江戸時代には御三家の1つ尾張藩徳川家が置かれた
122	三重県	律令制度の「伊勢国」および「伊賀国」（三重県西部）「志摩国」（三重県南東部）は現在の三重県にあたる 伊勢神宮があり、江戸時代には「お伊勢参り」が広まった
123	鹿児島県	律令制度の「薩摩国」（鹿児島県西部）および「大隅国」（鹿児島県東部）は、現在の鹿児島県にあたる。 江戸時代には薩摩藩島津家がおかれ、明治維新の中心となった
124	石川県	律令制度の「加賀国」「能登国」は現在の石川県にあたる。 江戸時代には加賀藩前田家がおかれ、石高が百万石を超える唯一の大藩であった
125	長野県	律令制度の「信濃国」は現在の長野県にあたり、「信州」という呼び名や日本最長河川である信濃川（長野県内では千曲川）にその名を残す
126	新潟県	律令制度の「越後国」は現在の新潟県にあたり、越後平野にその名を残す

127	和歌山県	律令制度の「紀伊国」は現在の和歌山県にあたる。江戸時代には御三家の1つ紀州藩徳川家が置かれ、8代将軍吉宗を輩出した
128	京都府	律令制度の「山城国」（京都府南部）および「丹後国」（京都府北部）「丹波国」（京都府中部）は現在の京都府にあたる
129	東京都・埼玉県	律令制度の「武蔵国」は現在の東京都・埼玉県にあたり、武蔵野台地にその名を残す
130	徳島県	律令制度の「阿波国」は現在の徳島県にあたり、徳島の夏の風物詩「阿波踊り」にその名を残す
131	佐賀県・長崎県	律令制度の「肥前国」は現在の佐賀県・長崎県にあたる。江戸時代には佐賀藩鍋島家がおかれ、明治維新の中心となった
132	高知県	律令制度の「土佐国」は、現在の高知県にあたる。江戸時代には土佐藩山内家がおかれ、明治維新の中心となった
133	香川県	律令制度の「讃岐国」は現在の香川県にあたり、讃岐平野にその名を残す
134	宮崎県	律令制度の「日向国」は、現在の宮崎県にあたる
135	岐阜県	律令制度の「美濃国」（岐阜県南部）と飛騨国（岐阜県北部）、現在の岐阜県にあたる
136	富山県	律令制度の「越中国」は、現在の富山県にあたる
137	千葉県	律令制度の「上総国」（千葉県東部）「下総国」（千葉県西部）「安房国」（千葉県南東部）は、現在の千葉県にあたる
138	山梨県	律令制度の「甲斐国」は、現在の山梨県にあたる
139	島根県	律令制度の「出雲国」（島根県西部）石見国（島根県東部）は、現在の島根県にあたり、出雲大社、石見銀山にその名を残す
140	愛媛県	律令制度の「伊予国」は現在の愛媛県にあたり、みかんの一種「いよかん」が愛媛県の特産品としてその名を残す
141	岡山県	律令制度の「備中国」（岡山県西部）「備前国」（岡山県東部）美作国（岡山県北部）は、現在の岡山県にあたる
142	広島県	律令制度の「安芸国」（広島県西部）「備後国」（広島県東部）は、現在の広島県にあたる

143	熊本県	律令制度の「肥後国」は、現在の熊本県にあたる
144	青森県	律令制度の「陸奥国」はもともと青森県・岩手県・宮城県・福島県にまたがる広い地域を指していたが、のちに陸前（宮城県）・陸中（岩手県）・磐城・岩代（福島県）を分離して、現在の青森県だけを指すようになった
145	秋田県・山形県	律令制度の「出羽国」はもともと秋田・山形両県を合わせたものだったが、のちに羽前国（山形県）と羽後国（秋田県）に分割された
146	栃木県	律令制度の「下野国」は、現在の群馬県にあたる
147	群馬県	律令制度の「上野国」は、現在の群馬県にあたる
148	滋賀県	律令制度の「近江国」は、現在の滋賀県にあたる
149	神奈川県	律令制度の「相模国」は、現在の神奈川県にあたる
150	福井県	律令制度の「越前国」（福井県東部）「若狭国」（福井県西部）は、現在の福井県にあたる
151	静岡県	律令制度の「駿河国」（静岡県東部）「遠江国」（静岡県西部）と「伊豆国」は、現在の静岡県にあたる
152	山口県	律令制度の「周防国」（山口県東部）「長門国」（山口県西部）は、現在の山口県にあたる 長門国は「長州」ともよばれ、江戸時代には長州藩毛利家が置かれ、明治維新の中心となった
153	茨城県	律令制度の「常陸国」は、現在の茨城県にあたる
154	大阪府	律令制度の「河内国」（大阪府東部）「和泉国」（大阪府南部）および「摂津国」（大阪府北部と兵庫県南東部）は、現在の大阪府にあたる
155	兵庫県	律令制度の「播磨国」（兵庫県西部）「但馬国」（兵庫県北部）および「摂津国」（兵庫県南東部）は、現在の兵庫県にあたる
156	福岡県	律令制度の「筑前国」（福岡県東部）「筑後国」（福岡県西部）は、現在の福岡県にあたる
157	大分県	律令制度の「豊前国」（大分県北部）「豊後国」（大分県南部）は、現在の大分県にあたる