

日本の国土と地形

- 001 日本の最北端の場所と、属する都道府県名を答えよ
☆☆☆☆☆ 択捉島、北海道
- 002 日本の最東端の場所と、属する都道府県名を答えよ
☆☆☆☆☆ 南鳥島、東京都
- 003 日本の最西端の場所と、属する都道府県名を答えよ
☆☆☆☆☆ 与那国島、沖縄県
- 004 日本の最南端の場所と、属する都道府県名を答えよ
☆☆☆☆☆ 沖ノ鳥島、沖縄県
- 005 日本の国土の東西の長さはおよそ何kmか
☆☆☆ およそ 3000km (3146km)
- 006 日本の国土の南北の長さはおよそ何kmか
☆☆☆ およそ 2800km (2787km)
- 007 日本の国土面積はおよそ何km²か
☆☆☆☆ およそ38万km² (377972km²)
- 008 日本の国土面積は世界の国々の中で何番目の大きさか
☆ 61番目
- 009 日本にはおよそいくつの島があるか
☆☆ 6852個
- 010 日本の国土のうち、最も面積が大きい島はどこか
☆☆☆☆☆ 本州
- 011 日本の本土4島と北方領土の択捉島・国後島に次いで大きい島はどこか
☆☆ 沖縄島
- 012 日本海にある離島のうち、面積が最大の島はどこか
☆☆ 佐渡島
- 013 瀬戸内海にある離島のうち、面積が最大の島はどこか
☆☆ 淡路島
- 014 日本が北方領土の領有権を争う相手国はどこか
☆☆☆☆☆ ロシア連邦
- 015 北方領土4島のうち、面積が最大の島はどこか
☆☆☆☆☆ 択捉島

- 016 北方領土4島のうち、2番目に大きい島はどこか
☆☆☆☆ 国後島
- 017 北方領土4島のうち、北海道に最も近い島はどこか
☆☆ 歯舞群島（貝殻島）
- 018 日本固有の領土だが、中国や台湾が領有権を争う島はどこか
☆☆☆☆☆ 尖閣諸島
- 019 日本固有の領土だが、韓国に不法占拠されている島はどこか
☆☆☆☆☆ 大韓民国（韓国）
- 020 北海道と本州を結ぶ運輸施設は何か
☆☆☆☆☆ 青函トンネル
- 021 本州と四国を結ぶ運輸施設のうち、東側のルート of 名称は何か
☆☆☆☆ 神戸・鳴門ルート（明石海峡大橋+大鳴門橋）
- 022 本州と四国を結ぶ運輸施設のうち、中央のルート of 名称は何か
☆☆☆☆ 児島・坂出ルート（瀬戸大橋）
- 023 本州と四国を結ぶ運輸施設のうち、西側のルート of 名称は何か
☆☆☆☆ 尾道・今治ルート（因島大橋+来島海峡大橋）
- 024 本州と四国を結ぶ本四架橋のうち、鉄道が運行する橋は何か
☆☆☆ 瀬戸大橋
- 025 本四架橋尾道・今治ルートの別名は何か
☆☆☆ 瀬戸内しまなみ海道
- 026 日本の国土における森林の割合は、およそ何%か
☆☆☆☆ およそ70%（67%）
- 027 都道府県のうち、森林の占める割合が最大の県と最少の県はそれぞれどこか
☆☆ 最多：高知県、最少：大阪府
- 028 日本の国土における標高100m以上の土地（山地）の割合は、およそ何%か
☆☆☆ 73.2%
- 029 日本で最も標高の高い山と、その高さを答えよ
☆☆☆☆☆ 富士山、3776m
- 030 日本で2番目に標高の高い山と、その山がある山脈・山地名を答えよ
☆ 北岳、赤石山脈
- 031 日本アルプスとよばれる3つの山脈を、西から順に答えよ
☆☆☆☆☆ 飛騨山脈、木曾山脈、赤石山脈

- 032 標高3000m以上の山は、日本にいくつあるか ☆ 21個
- 033 北海道で最も標高の高い山を答えよ ☆ 旭岳（大雪山）
- 034 四国で最も標高の高い山を答えよ ☆ 石鎚山
- 035 九州で最も標高の高い山を答えよ ☆☆☆ 宮之浦岳
- 036 日本最長の河川の名前が流れる県名と、その県での呼び名をそれぞれ答えよ ☆☆☆☆☆ 新潟県・信濃川、長野県・千曲川
- 037 日本で2番目に長い川を答えよ ☆☆☆☆ 利根川
- 038 日本で3番目に長い川を答えよ ☆☆☆ 石狩川
- 039 日本で5番目に長く、流域面積が4番目に広い、東北地方最大の川は何か ☆☆☆ 北上川
- 040 日本で7番目に長く、流域面積が5番目に広い、中部地方第2の川は何か ☆☆ 木曾川
- 041 日本最後の清流ともいわれる、四国最長の川は何か ☆☆ 四万十川
- 042 川の流域面積とは何を表す言葉か説明せよ ☆☆☆☆☆ その川に対して降水が流れ込む陸地の面積の合計
- 043 日本で流域面積が最大の河川の名前と、その流域となる都道府県名を答えよ ☆☆☆☆☆ 利根川、長野・群馬・栃木・茨城・埼玉・千葉・東京
- 044 日本で2番目に流域面積の大きい川を答えよ ☆☆☆☆ 石狩川
- 045 九州地方最長・最大の川は何か ☆☆☆ 筑後川
- 046 日本で7番目に流域面積が大きく、支流の数が最多の川の名を、流れる都道府県ごとに答えよ ☆☆☆ 瀬田川（滋賀県）、宇治川（京都府）、淀川（大阪府）
- 047 日本三大急流を答えよ ☆☆☆☆☆ 最上川、富士川、球磨川

<input type="checkbox"/> 048	立山を水源とし、富山湾までわずか50kmの長さで2500mの高低差を持つ世界屈指の急流は何か	☆	常願寺川
<input type="checkbox"/> 049	三大暴れ川の通称を持つ川を、通称とともに答えよ	☆☆☆☆	利根川「坂東太郎」、筑後川「筑紫次郎」、吉野川「四国三郎」
<input type="checkbox"/> 050	日本で最も大きい湖を答えよ	☆☆☆☆☆	琵琶湖
<input type="checkbox"/> 051	日本で2番目に大きい湖を答えよ	☆☆	霞ヶ浦
<input type="checkbox"/> 052	日本で3番目に大きい湖であり、最大の汽水湖を答えよ	☆☆☆	サロマ湖
<input type="checkbox"/> 053	日本で4番目に大きい湖であり、太平洋と日本海の両方に接続する湖を答えよ	☆	猪苗代湖
<input type="checkbox"/> 054	日本で5番目に大きい湖であり、西日本最大の湖でもある汽水湖を答えよ	☆	中海
<input type="checkbox"/> 055	日本で6番目に大きい湖であり、日本最大のカルデラ湖でもある湖を答えよ	☆	屈斜路湖
<input type="checkbox"/> 056	日本一深い湖を答えよ	☆☆☆	田沢湖
<input type="checkbox"/> 057	日本一湖面標高の高い湖を答えよ	☆	中禅寺湖
<input type="checkbox"/> 058	天然三大美林を答えよ	☆☆☆☆	津軽ひば、秋田すぎ、木曾ひのき
<input type="checkbox"/> 059	人工三大美林を答えよ	☆☆☆	吉野すぎ、天竜すぎ、尾鷲ひのき
<input type="checkbox"/> 060	日本三景を答えよ	☆☆☆☆☆	松島、天橋立、宮島
<input type="checkbox"/> 061	日本三名園と、その所在地を答えよ	☆☆☆☆	偕楽園（水戸）、兼六園（金沢）、後楽園（岡山）
<input type="checkbox"/> 062	国立公園の管理をする組織（役所）は何か	☆	環境省
<input type="checkbox"/> 063	2019年現在、国立公園は何カ所あるか	☆	34カ所

□064 国定公園の管理をする組織は何か
☆ 都道府県

□065 世界遺産の指定をする組織は何か
☆☆☆☆☆ ユネスコ (UNESCO、
国連教育科学文化機
関)

□066 日本国内の世界自然遺産をすべて答えよ
☆☆☆☆☆ 知床、白神山地、
小笠原諸島、屋久島

□067 白神山地が世界自然遺産とされた理由を答えよ
☆☆☆☆ 8000年の歴史を持つ
世界最大級のブナの天
然林があるから

□068 2019年現在、日本には何カ所の世界遺産が指定されてい
るか
☆☆☆ 23カ所

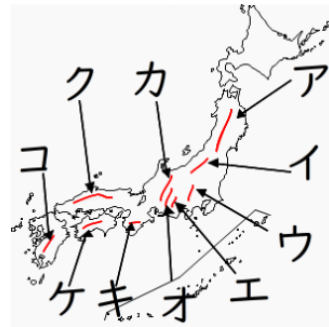
□069 地球の歴史を地質学的に知ることができる「大地の公園」
として指定された場所を何というか
☆☆☆ ジオパーク

□070 北海道にある2カ所の世界ジオパークを答えよ
☆ 洞爺湖有珠山ジオパー
ク、アポイ岳ジオパー
ク

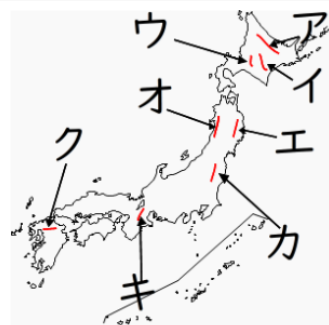
□071 新潟県にある世界ジオパークを答えよ
☆☆ 糸魚川ジオパーク

□072 九州にある2カ所の世界ジオパークを答えよ
☆☆ 島原半島ジオパーク、
阿蘇ジオパーク

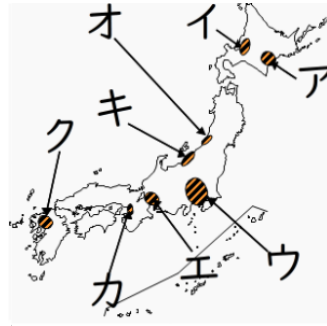
□073 図のア～コの山地・山脈の名前を答えよ
☆☆☆☆☆
ア：奥羽山脈 イ：越
後山脈 ウ：関東山地
エ：赤石山脈 オ：木
曾山脈 カ：飛騨山脈
キ：紀伊山地 ク：中
国山地 ケ：四国山地
コ：九州山地



□074 図のア～クの山地・山脈の名前を答えよ
☆☆
ア：北見山地 イ：日
高山脈 ウ：夕張山地
エ：北上高地 オ：出
羽山地 カ：阿武隈高
地 キ：鈴鹿山脈
ク：筑紫山地



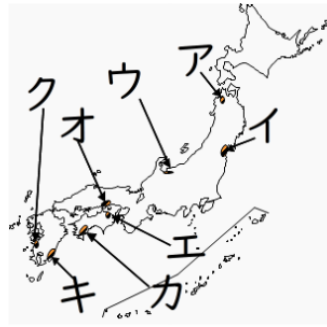
□075 図のア～クの平野の名前を答えよ



ア：十勝平野 イ：石狩平野
ウ：関東平野 エ：濃尾平野
オ：庄内平野 カ：大阪平野
キ：越後平野 ク：筑紫平野

☆☆☆☆☆

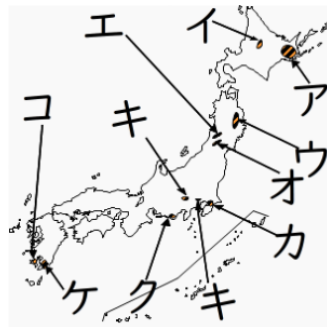
□076 図のア～クの平野の名前を答えよ



ア：津軽平野 イ：仙台平野
ウ：富山平野 エ：讃岐平野
オ：岡山平野 カ：高知平野
キ：宮崎平野 ク：八代平野

☆☆☆

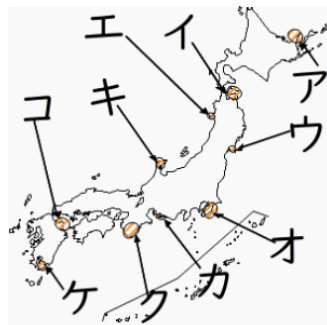
□077 図のア～コの盆地・台地の名前を答えよ



ア：根釧台地 イ：上川盆地
ウ：北上盆地 エ：山形盆地
オ：米沢盆地 カ：下総台地
キ：武蔵野台地 ク：牧ノ原台地
ケ：シラス台地 コ：笠野原台地

☆☆☆

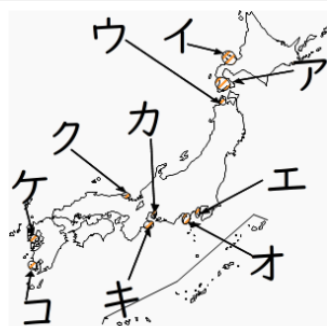
□078 図のア～コの半島の名前を答えよ



ア：知床半島 イ：下北半島
ウ：牡鹿半島 エ：男鹿半島
オ：房総半島 カ：渥美半島
キ：能登半島 ク：紀伊半島
ケ：大隅半島 コ：国東半島

☆☆☆

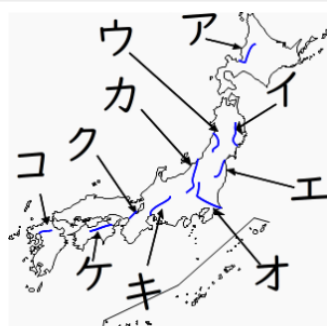
□079 図のア～コの半島の名前を答えよ



ア：渡島半島 イ：積丹半島
ウ：津軽半島 エ：三浦半島
オ：伊豆半島 カ：知多半島
キ：志摩半島 ク：丹後半島
ケ：島原半島 コ：薩摩半島

☆☆

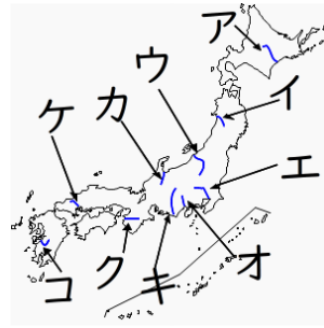
□080 図のア～コの川の名前を答えよ



ア：石狩川、イ：北上川
ウ：最上川 エ：阿武隈川
オ：利根川 カ：信濃川
キ：木曾川 ク：淀川
ケ：吉野川 コ：筑後川

☆☆☆☆☆

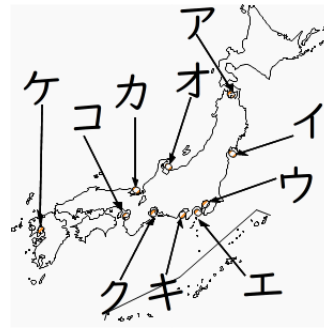
□081 図のア～コの川の名前を答えよ



ア：十勝川、イ：雄物川
ウ：阿賀野川
エ：荒川 オ：富士川
カ：神通川 キ：天竜川
ク：紀ノ川 ケ：太田川
コ：球磨川

☆☆

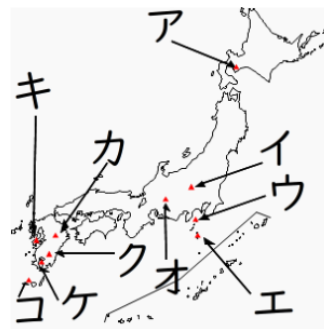
□082 図のア～コの湾の名前を答えよ



ア：陸奥湾、イ：仙台湾
ウ：東京湾 エ：相模湾
オ：富山湾 カ：若狭湾
キ：駿河湾 ク：伊勢湾
ケ：有明海 コ：大阪湾

☆☆☆☆

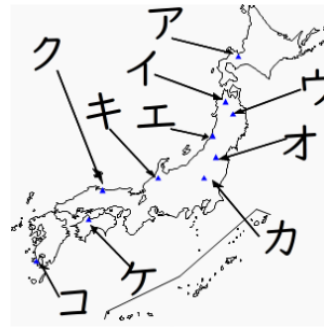
□083 図のア～コの火山の名前を答えよ



ア：有珠山 イ：浅間山
ウ：三原山 (大島) エ：雄山 (三宅島)
オ：御嶽山 カ：阿蘇山
キ：雲仙岳 (普賢岳) ク：霧島山 (新燃岳)
ケ：桜島 (御岳) コ：口永良部島 (新岳)

☆☆☆☆

□084 図のア～コの郷土富士の名前を答えよ



ア：蝦夷富士 イ：津軽富士
ウ：岩手富士 エ：出羽富士
オ：会津富士 カ：日光富士
キ：加賀富士 ク：伯耆富士
ケ：伊予富士 コ：薩摩富士

☆

□085 図のア～コの湖の名前を答えよ



ア：サロマ湖 イ：屈斜路湖
ウ：田沢湖 エ：猪苗代湖
オ：霞ヶ浦 カ：浜名湖
キ：琵琶湖 ク：中海と穴道湖
コ：池田湖

☆☆☆☆

□086 日本国内の地形図を作成している公的機関は何か

☆☆☆☆

国土地理院

□087 地理院地図 (電子国土基本図) の元となった地形図の縮尺を答えよ

☆☆☆

2万5千分の1

□088 地図上で同じ標高の点を線でつなぎ、地形を表す線を何とよぶか

☆☆☆☆

等高線

□089 等高線のうち、5本ごとに引かれる太線を何というか

☆

計曲線

□090 2万5千分の1地図での主曲線の間隔を答えよ

☆☆☆

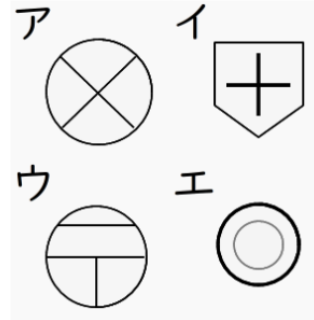
10m

□091 2万5千分の1地図での計曲線の間隔を答えよ

☆☆

50m


□092 図のア～エの地図記号が表すものを答えよ



☆☆☆☆☆

ア：警察署 イ：病院
ウ：郵便局 エ：市役所

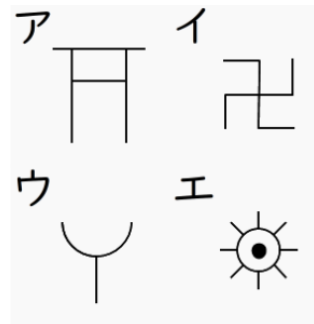
□093 図のア～エの地図記号が表すものを答えよ



☆☆☆☆☆

ア：小中学校 イ：図書館
ウ：老人ホーム エ：工場

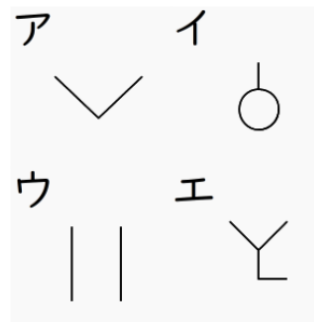
□094 図のア～エの地図記号が表すものを答えよ



☆☆☆☆☆

ア：神社 イ：寺院
ウ：消防署 エ：灯台


□095 図のア～エの地図記号が表すものを答えよ



☆☆☆☆☆

ア：畑 イ：果樹園
ウ：田 エ：桑畑


□096 図のア～エの地図記号が表すものを答えよ



☆☆☆

ア：交番 イ：発電所
ウ：税務署 エ：博物館・美術館

□097 図のア～エの地図記号が表すものを答えよ



☆☆

ア：茶畑 イ：広葉樹
林 ウ：針葉樹林
エ：裁判所

□098 図に見られる特徴的な地形は何か



☆☆☆☆☆

扇状地

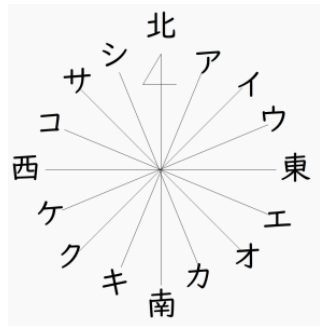
□099 図に見られる特徴的な地形は何か



☆☆☆☆

三角州

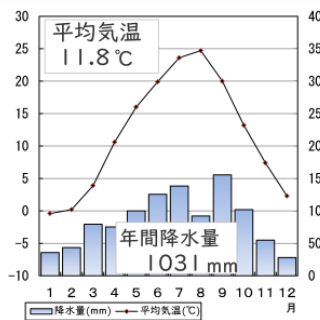
□100 図のア～シの方位を答えよ



☆☆☆☆☆

順に、北北東、北東、東北東、東南東、南東、南南東、南南西、南西、西南西、西北西、北西、北北西

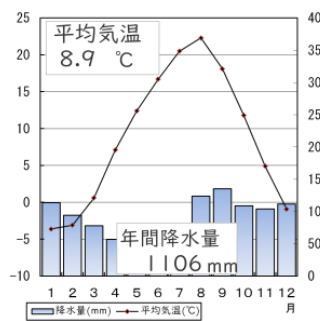
□101 図の雨温図はどこの都市のものか選べ
【札幌、新潟、仙台、松本、東京、高松、高知、那覇】



☆☆☆☆

松本

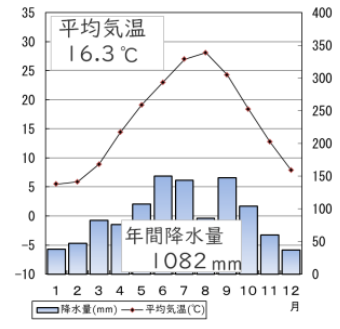
□102 図の雨温図はどこの都市のものか選べ
【札幌、新潟、仙台、松本、東京、高松、高知、那覇】



☆☆☆☆

札幌

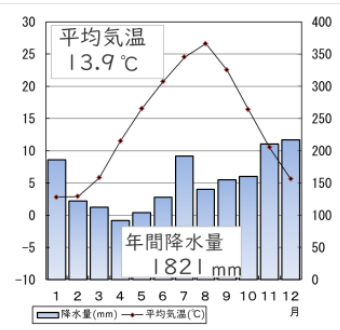
□ 103 図の雨温図はどこの都市のものか選べ
【札幌、新潟、仙台、松本、東京、高松、高知、那覇】



☆☆☆☆

高松

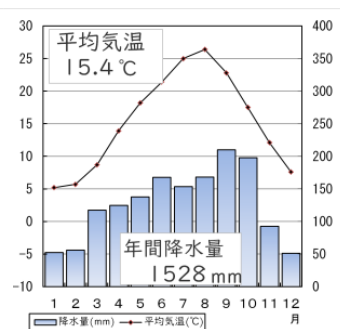
□ 104 図の雨温図はどこの都市のものか選べ
【札幌、新潟、仙台、松本、東京、高松、高知、那覇】



☆☆☆☆

新潟

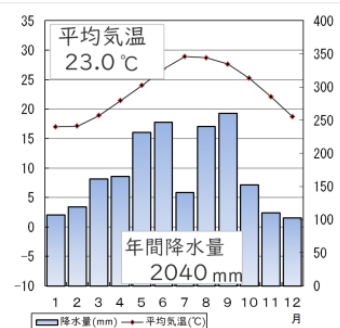
□ 105 図の雨温図はどこの都市のものか選べ
【札幌、新潟、仙台、松本、東京、高松、高知、那覇】



☆☆☆☆

東京

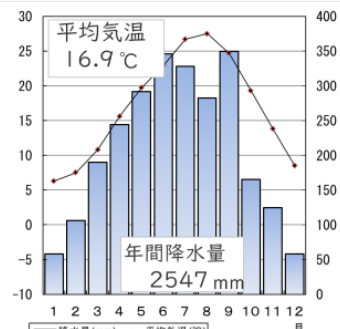
□ 106 図の雨温図はどこの都市のものか選べ
【札幌、新潟、仙台、松本、東京、高松、高知、那覇】



☆☆☆☆

那覇

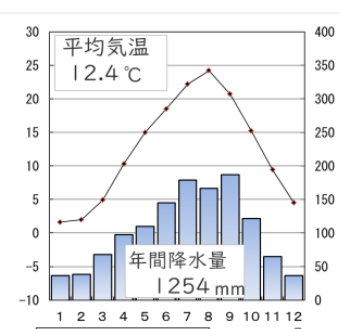
□ 107 図の雨温図はどこの都市のものか選べ
【札幌、新潟、仙台、松本、東京、高松、高知、那覇】



☆☆☆☆

高知

□ 108 図の雨温図はどこの都市のものか選べ
【札幌、新潟、仙台、松本、東京、高松、高知、那覇】



☆☆☆☆

仙台

日本の国土と地形 解答

001	択捉島、北海道	日本の最北端は北方領土の択捉島（北緯45度33分）だが、ロシアの占領下にある北方領土を除いた最北端は北海道の宗谷岬（北緯45度31分）になる
002	南鳥島、東京都	日本の最東端は小笠原諸島の南鳥島（東経153度59分）だが、海上自衛隊と気象庁の職員のみが立ち入り可能となっている 本土の最東端は北海道根室市の納沙布岬（東経145度）となる
003	与那国島、沖縄県	日本の最西端は沖縄県にある与那国島（東経122度55分）で、本土の最西端は長崎県佐世保市（東経129度）となる
004	沖ノ鳥島、沖縄県	日本の最南端は小笠原諸島の南鳥島（北緯20度25分）だが、実際には小さな岩礁で、浸食を防ぐためにコンクリートで護岸されている 本土の最南端は鹿児島県の佐多岬（北緯30度）、有人島の最南端は沖縄県の波照間島（北緯24度）
005	およそ 3000km (3146km)	最東端の南鳥島から最西端の与那国島まで、経度にして31度、およそ3000km離れている
006	およそ 2800km (2787km)	最北端の択捉島から最南端の沖ノ鳥島まで、緯度にして25度、およそ2800km離れている
007	およそ38万 km ² / sup> (377972km<s up>2</sup>)	日本の国土面積はおよそ37万8千km ² で、世界では61番目に大きい国である そのうち北方領土がおよそ5000km ² 含まれている
008	61番目	日本の国土面積はおよそ38万km ² で、地球全土のわずか0.25%だが、国連加盟193カ国の中では61番目の大きさと、ドイツやイギリス、イタリアなどより大きい面積を持つ
009	6852個	海上保安庁が周囲100m以上のものを6852個と定義している 数え方によって、3922個という見解もある
010	本州	日本の国土で最も面積が大きいのは本州で、世界でも7番目に大きい島である 次いで北海道、九州、四国、択捉島、国後島、沖縄島の順になる
011	沖縄島	いわゆる離島の中で最大（北方領土を除く）は沖縄島で、次いで佐渡島、奄美大島、対馬、淡路島の順になる
012	佐渡島	日本海にある離島で最大のものは佐渡島で、次いで隠岐（島後）となる
013	淡路島	瀬戸内海にある離島で最大のものは淡路島で、次いで小豆島となる
014	ロシア連邦	北方領土（択捉島、国後島、色丹島、歯舞群島）は日本固有の領土だが、第二次世界大戦時にソビエト連邦（現ロシア連邦）に不法占拠された
015	択捉島	北方領土4島のうち最大の島が日本の最北端でもある択捉島で、ロシア連邦に不法占拠されている

016	国後島	北方領土4島のうち2番目に大きい島が国後島で、知床から沖合にその姿を見ることができる
017	歯舞群島（貝殻島）	北方領土4島のうち歯舞群島は北海道に最も近く、貝殻島は根室の納沙布岬からわずか4kmの距離にある
018	尖閣諸島	東シナ海の石垣島北方にある尖閣諸島は日本固有の領土だが、海底に地下資源があると判明してから中国、台湾が領有権を主張しだした
019	大韓民国（韓国）	日本海にある島根県竹島は日本固有の領土だが、第二次世界大戦後に韓国軍により不法占拠され、多数の漁民が虐殺された
020	青函トンネル	北海道と青森県の間を結ぶ鉄道専用の青函トンネルが1988年に開通し、現在は北海道新幹線が運行している
021	神戸・鳴門ルート（明石海峡大橋+大鳴門橋）	本州と四国を結ぶ3つのルートのうち、東側は神戸から淡路島を経由して徳島県に至る神戸・鳴門ルートである
022	児島・坂出ルート（瀬戸大橋）	本州と四国を結ぶ3つのルートのうち、中央は岡山県倉敷市児島から香川県の坂出市までの瀬戸大橋で、唯一の電車が走るルートである
023	尾道・今治ルート（因島大橋+来島海峡大橋）	本州と四国を結ぶ3つのルートのうち、西側は広島県尾道市から愛媛県の今治市までのを結ぶ「瀬戸内しまなみ海道」で、自転車で渡ることもできる
024	瀬戸大橋	児島・坂出ルートを結ぶ瀬戸大橋は、世界最長の鉄道道路併用橋として、上部に道路が、下部に線路が併設されている
025	瀬戸内しまなみ海道	尾道・今治ルートには瀬戸内しまなみ海道という別名があり、自転車で小島を巡りながら走ることもできる
026	およそ70%（67%）	日本の国土のうち67.5%が森林で、世界でもフィンランド、スウェーデンに次いで3番目に森林率が高い国である
027	最多：高知県、最少：大阪府	高知県の森林率は84%で、次いで岐阜、長野が森林率が高い 大阪府の森林率は31%（茨城・千葉もほぼ同値）
028	73.2%	日本の国土の7割が山地で、標高500m以上の土地が国土全体の4分の1を占める
029	富士山、3776m	静岡・山梨両県にまたがる富士山はその山体の美しさから、古来より信仰の対象とされ、世界文化遺産にも指定されている
030	北岳、赤石山脈	日本で2番目に高い山は赤石山脈にある北岳（山梨県南アルプス市）で、標高3193mである
031	飛騨山脈、木曾山脈、赤石山脈	飛騨山脈は北アルプス、木曾山脈は中央アルプス、赤石山脈は南アルプスとよばれる

032	21個	富士山を除くと、すべての3000m峰が日本アルプス（飛騨山脈・木曾山脈・赤石山脈）にある（木曾御嶽山を飛騨山脈に含むものとする）
033	旭岳（大雪山）	石狩山地の大雪山（旭岳）が標高2291mで北海道の最高峰になる
034	石鎚山	四国山地の西端部にある愛媛県の石鎚山は標高1982mで、四国のみならず西日本の最高峰になる
035	宮之浦岳	鹿児島県の屋久島中央部が宮之浦岳で、標高1936mの九州最高峰として、亜熱帯の土地ながら山頂部は亜寒帯の気候となる
036	新潟県・信濃川、長野県・千曲川	信濃川は全長367kmの日本最長河川で、流域面積は全国第3位 上流部の長野県内では千曲川と呼ばれ、新潟県内では信濃川と呼ばれる
037	利根川	利根川は全長322kmで、日本で2番目に長い川であり、流域面積が最大の川である
038	石狩川	北海道を流れる石狩川は全長268kmで、日本で3番目に長い川であり、流域面積は利根川に次ぐ2番目の大きさである
039	北上川	東北地方の川では北上川について阿武隈川、最上川が長い川である
040	木曾川	中部地方の川では信濃川、木曾川について天竜川、阿賀野川が長い川である
041	四万十川	四国最長の河川は吉野川（四国で2番目に長い）ではなく、高知県を流れる四万十川である
042	その川に対して降水が流れ込む陸地の面積の合計	流域面積とは川幅のことではなく、雨水を集める範囲の広さを示すものである
043	利根川、長野・群馬・栃木・茨城・埼玉・千葉・東京	鬼怒川・渡良瀬川・江戸川など多くの支流を持ち、関東平野の雨水を広く集める利根川が、流域面積最大の大河である
044	石狩川	北海道を流れる石狩川は全長268kmで、日本で3番目に長い川であり、流域面積は利根川に次ぐ2番目の大きさである
045	筑後川	九州地方最長の筑後川は、三大暴れ川の1つ「筑紫次郎」として知られる
046	瀬田川（滋賀県）、宇治川（京都府）、淀川（大阪府）	琵琶湖から流れ出した瀬田川は宇治川、淀川と名を変えて大阪湾に流れ込み、全長は短いですが支流が日本最多の965本で流域面積第7位になる
047	最上川、富士川、球磨川	源流の山地から河口までの距離が短く落差の大きい最上川、富士川、球磨川が三大急流として知られる

048	常願寺川	富山県の常願寺川は、世界屈指の急流として知られている
049	利根川「坂東太郎」、 筑後川「筑紫次郎」吉 野川「四国三郎」	古くから幾度となく水害を繰り返した利根川、筑後川、吉野川が三大暴れ川として知られる
050	琵琶湖	滋賀県の琵琶湖は日本一の湖面面積であり、滋賀県の面積の6分の1を占める
051	霞ヶ浦	茨城県の霞ヶ浦は日本で2番目に大きい湖であり、かつては海水と混ざる汽水湖であったが、現在は常陸川水門より海水は流入していない
052	サロマ湖	北海道のサロマ湖は日本で最大の汽水湖で、湖としても3番目に大きい
053	猪苗代湖	福島県の猪苗代湖は日本で4番目に大きく、阿賀野川から日本海へ、安積疎水から阿武隈川が太平洋へ接続する
054	中海	鳥取・島根県境の中海は日本で5番目、西日本最大の湖で、宍道湖とも接続している
055	屈斜路湖	北海道東部の屈斜路湖は日本最大のカルデラ湖であり、全面結氷する最大の湖でもある
056	田沢湖	秋田県の田沢湖は水深420mで日本一深い湖である
057	中禅寺湖	栃木県、日光の中禅寺湖は標高1269mにあり、日本一湖面標高が高い湖である
058	津軽ひば、秋田すぎ、 木曾ひのき	数百年の年月をかけて自生してきた森林が天然三大美林とされている
059	吉野すぎ、天竜すぎ、 尾鷲ひのき	江戸時代以降の植林によってできた森林が人工三大美林とされている
060	松島、天橋立、宮島	宮城県の松島、京都府の天橋立、広島県の宮島は日本三景として江戸時代から知られている
061	偕楽園（水戸）、兼六 園（金沢）、後楽園 （岡山）	偕楽園、兼六園、後楽園は江戸時代に造営された大名庭園で、日本三名園とされる
062	環境省	自然の風景を保護しつつ、観光地として利用するために、環境省により34カ所の国立公園が指定されている
063	34カ所	自然の風景を保護しつつ、観光地として利用するために、環境省により34カ所の国立公園が指定されている

064	都道府県	自然の保護と観光地としての利用のため、56カ所の国立公園が指定され、都道府県により管理されている
065	ユネスコ (UNESCO、国連教育科学文化機関)	人類が共有すべき自然や文化財は、ユネスコ (国連教育科学文化機関) によって世界遺産に指定される
066	知床、白神山地、小笠原諸島、屋久島	知床、白神山地、小笠原諸島、屋久島の4カ所は、他に類を見ない自然の残された場所として、世界自然遺産に認定されている
067	8000年の歴史を持つ世界最大級のブナの天然林があるから	ブナの木は実用性に欠けるため、数千年にわたって手つかずのままだった原生林が白神山地である
068	23カ所	自然遺産4カ所に加え、文化遺産19カ所の合計23カ所が世界遺産に指定されている
069	ジオパーク	「大地の公園」である世界ジオパークには、日本国内で9カ所が登録されている
070	洞爺湖有珠山ジオパーク、アポイ岳ジオパーク	洞爺湖有珠山の火山活動、アポイ岳のかんらん岩 (地球内部のマントルがそのまま地表に現れたもの) が北海道にある世界ジオパークである
071	糸魚川ジオパーク	フォッサマグナとヒスイの産出により、糸魚川がジオパークに指定されている
072	島原半島ジオパーク、阿蘇ジオパーク	島原半島は雲仙岳の火山活動、阿蘇はカルデラによりジオパークに指定されている
073	ア：奥羽山脈 イ：越後山脈 ウ：関東山地 エ：赤石山脈 オ：木曾山脈 カ：飛騨山脈 キ：紀伊山地 ク：中国山地 ケ：四国山地 コ：九州山地	奥羽山脈は日本最長の山脈。飛騨・木曾・赤石は日本アルプスである
074	ア：北見山地 イ：日高山脈 ウ：夕張山地 エ：北上高地 オ：出羽山地 カ：阿武隈高地 キ：鈴鹿山脈 ク：筑紫山地	起伏が大きい山地を山脈といい、あまり高低差のない山地を高地という
075	ア：十勝平野 イ：石狩平野 ウ：関東平野 エ：濃尾平野 オ：庄内平野 カ：大阪平野 キ：越後平野 ク：筑紫平野	最大の平野が関東平野で、石狩平野、十勝平野が次いで広い平野である
076	ア：津軽平野 イ：仙台平野 ウ：富山平野 エ：讃岐平野 オ：岡山平野 カ：高知平野 キ：宮崎平野 ク：八代平野	宮崎平野・高知平野は促成栽培で、讃岐平野はため池で有名である

077	ア：根釧台地 イ：上川盆地 ウ：北上盆地 エ：山形盆地 オ：米沢盆地 カ：下総台地 キ：武蔵野台地 ク：牧ノ原台地 ケ：シラス台地 コ：笠野原台地	武蔵野、牧之原、笠野原は「台地」をつけずにいうこともある
078	ア：知床半島 イ：下北半島 ウ：牡鹿半島 エ：男鹿半島 オ：房総半島 カ：渥美半島 キ：能登半島 ク：紀伊半島 ケ：大隅半島 コ：国東半島	ウは「おしか」、エは「おが」、コは「くにさき」と読む
079	ア：渡島半島 イ：積丹半島 ウ：津軽半島 エ：三浦半島 オ：伊豆半島 カ：知多半島 キ：志摩半島 ク：丹後半島 ケ：島原半島 コ：薩摩半島	アは「おしま」、イは「しゃこたん」と読む
080	ア：石狩川、イ：北上川 ウ：最上川 エ：阿武隈川 オ：利根川 カ：信濃川 キ：木曾川 ク：淀川 ケ：吉野川 コ：筑後川	利根川（坂東太郎）筑後川（筑紫二郎）吉野川（四国三郎）が三大暴れ川となる
081	ア：十勝川、イ：雄物川 ウ：阿賀野川 エ：荒川 オ：富士川 カ：神通川 キ：天竜川 ク：紀ノ川 ケ：太田川 コ：球磨川	最上川、富士川、球磨川が日本三大急流となる
082	ア：陸奥湾、イ：仙台湾 ウ：東京湾 エ：相模湾 オ：富山湾 カ：若狭湾 キ：駿河湾 ク：伊勢湾 ケ：有明海 コ：大阪湾	日本最大の湾は伊勢湾で、次いで有明海（南部の島原湾を含む）
083	ア：有珠山 イ：浅間山 ウ：三原山（大島） エ：雄山（三宅島） オ：御嶽山 カ：阿蘇山 キ：雲仙岳（普賢岳） ク：霧島山（新燃岳） ケ：桜島（御岳） コ：口永良部島（新岳）	すべて気象庁の常時観測指定火山にあたる。草津白根山はイより少し北東にある
084	ア：蝦夷富士 イ：津軽富士 ウ：岩手富士 エ：出羽富士 オ：会津富士 カ：日光富士 キ：加賀富士 ク：伯耆富士 ケ：伊予富士 コ：薩摩富士	アは羊蹄山、イは岩木山、ウは岩手山、エは鳥海山、オは磐梯山、カは男体山、キは白山、クは大山、ケは石鎚山、コは開聞岳

085	ア：サロマ湖 イ：屈斜路湖 ウ：田沢湖 エ：猪苗代湖 オ：霞ヶ浦 カ：浜名湖 キ：琵琶湖 クケ：中海と宍道湖 コ：池田湖	中海の西岸から大橋川を通じて宍道湖と連結している。池田湖は九州最大の湖
086	国土地理院	現在の国土地理院による地形図（地理院地図）は電子国土基本図として公開されている
087	2万5千分の1	地理院地図は電子化され、縮尺が自由に変更できるが、基本となるのは2万5千分の1地形図である
088	等高線	地形図には等高線が引かれ、地形を読み取ることができる
089	計曲線	等高線は一定の間隔で引かれる主曲線と、5本に1本引かれる計曲線がある
090	10m	2万5千分の1地図では、標高10mごとに1本の等高線（主曲線）が引かれる
091	50m	2万5千分の1地図では主曲線が10m間隔なので、計曲線は50m間隔となる
092	ア：警察署 イ：病院 ウ：郵便局 エ：市役所	アの外側の丸がないものが交番、エを縦に潰すと都道府県庁舎
093	ア：小中学校 イ：図書館 ウ：老人ホーム エ：工場	アを丸で囲むと高等学校、エの左右が縦にまがると発電所
094	ア：神社 イ：寺院 ウ：消防署 エ：灯台	消防署の地図記号はかつて火消しの道具であった「さすまた」を表す
095	ア：畑 イ：果樹園 ウ：田 エ：桑畑	エの桑畑は現在の地図にはほとんど見られず、古地図の問題でよく出題される
096	ア：交番 イ：発電所 ウ：税務署 エ：博物館・美術館	発電所のうち、原子力発電所は別の地図記号がある
097	ア：茶畑 イ：広葉樹林 ウ：針葉樹林 エ：裁判所	裁判所の地図記号は「立て札」のイメージ。茶畑の記号は名所旧跡の記号より少し小さい
098	扇状地	黒部川扇状地（富山県入善町）の図で、直接海に面している
099	三角州	阿武川三角州（山口県萩市）の図で、三角州に市街地が形成されている

100	順に、北北東、北東、東北東、東南東、南東、南南東、南南西、南西、西南西、西北西、北西、北北西	8方位は「南北」を先に、16方位は8方位の頭に4方位をつける
101	松本	降水量が少なく、平均気温があまり高くないことから中央高地の気候と考えられる
102	札幌	平均気温が低く、梅雨がないことから北海道の気候と考えられる
103	高松	年間を通じて雨が少なく、温暖なことから瀬戸内の気候と考えられる
104	新潟	冬の降水（降雪）量が多く、平均気温があまり低くないことから日本海側の気候と考えられる
105	東京	夏～秋の降水量が多いことから太平洋側の気候と考えられる
106	那覇	年間を通じて温暖なことから、南西諸島の気候と考えられる
107	高知	特に多雨なことから、四国太平洋岸の気候と考えられる
108	仙台	夏が冷涼で、梅雨があることから東北地方太平洋岸の気候と考えられる